

平成28年度
入学試験問題

社 会

2月2日 第1限

仁愛女子高等学校

1 海外旅行に出かけたA～Eさんの次の報告を読んで、あとの問いに答えよ。

Aさん…日本の空港を飛び立ったのは真冬でしたが、この国に着いたら真夏でした。

a 海水浴場にツリーを飾りクリスマス祝っているのを見てびっくりしました。この国の貿易は、50年以上前は（ ① ）が輸出の4割ほどを占めていましたが、現在は、石炭・鉄鉱石など鉱産資源の輸出が多くなっています。

Bさん…一昨年、ワールドカップの世界大会が開かれたこの国は、サッカー競技がたいへんさかんで、街中でサッカーボールを蹴っている少年をたくさん見かけました。この国の周辺はスペイン語を話す国が多いのに、b この国では異なる言語が話されています。この国の貿易は、50年以上前は（ ② ）が輸出の半分以上を占めていましたが、現在は自動車などの工業製品も輸出できるようになりました。

Cさん…私の大好きなチョコレートの原料である（ ③ ）の生産地として有名で、日本で加工される原料の大半は、この国から輸入されるそうです。この国の属する大陸では、c 植民地時代からヨーロッパ人による農業が行われ、特定の作物だけを栽培してヨーロッパに輸出していました。

Dさん… d 真夏の太陽が照り輝いているのに、空気が乾燥しているせいか不思議と汗があまり出ません。（ ④ ）やブドウの畑が一面に広がり、羊やヤギの姿も見られます。この国は古代の遺跡が多く観光産業がさかんですが、工業も発展しており、おしゃれなブランド品のバッグや衣服の生産で知られ、日本へも多く輸出されています。

Eさん…街なかにはきらびやかな寺院が多く、またオレンジ色の服を着た僧侶の姿を数多く見かけ、仏教のさかんなことがうかがえます。大河の流域には地平線のかなたまで（ ⑤ ）が栽培されて、この国の重要な輸出品となっています。日本企業の広告もいたるところに見られ、e 日本企業が数多く進出していることがわかります。

問(1) A～Eさんの出かけた国名を答えよ。また、地図から正しい位置を選び、記号で答えよ。

(2) (①) ～ (⑤) に適する正しい語句を選び、記号で答えよ。

ア 米 イ 小麦 ウ とうもろこし エ さとうきび オ カカオ
カ コーヒー キ 綿花 ク 羊毛 ケ オリーブ コ 天然ゴム

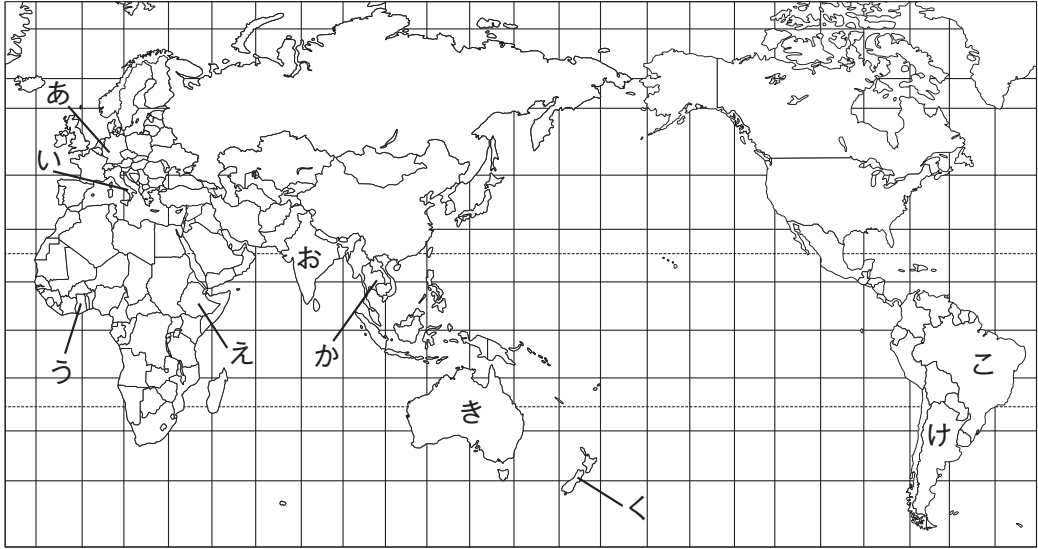
(3) 下線の部分 a に関して、この国の国民のほとんどはキリスト教徒であるが、これはこの国に最初に進出し開発を進めたヨーロッパのある国の影響である。ある国の国名を答えよ。

(4) 下線の部分 b に関して、言語名を答えよ。

(5) 下線の部分 c に関して、農業名を答えよ。

(6) 下線の部分 d に関して、この国に見られる夏は暑く乾燥する気候区名を答えよ。

(7) 下線の部分 e に関して、この国に日本企業が進出する大きな理由を簡潔に答えよ。



2 昨年、北陸新幹線の東京～金沢間が開通し、関東地方から多くの観光客が北陸3県を訪れるようになった。開通以前、北陸3県へは近畿地方からの観光客が圧倒的に多かったので、開通により人の流れが大きく変わったことがわかる。そこで、両地方と北陸3県を結ぶ鉄道ルート（北陸新幹線・JR在来線）に沿った地域を調べてみることにした。次の地図を見て、あとの問いに答えよ。

問(1) 次は関東・近畿地方と北陸3県を結ぶルートを東京駅から大阪駅へ乗車した時、沿線に見られる有名な山を順に並べたものである。(①)と(②)にあてはまる山をそれぞれ選び、記号で答えよ。

東京駅 → (①) → 妙高山 → (②) → 白山 → 比叡山 → 大阪駅

ア 富士山 イ 立山 ウ 有珠山 エ 磐梯山 オ 浅間山 カ 御嶽山

(2) 次の文は、これらの鉄道ルートが通過する関東地方・近畿地方の都府県について述べたものである。該当する都府県名を答えよ。答えは漢字で書くこと。

- A. 江戸時代、中央部にある湖が北陸と京都・大阪などを結ぶ水運として利用された。近年は大阪大都市圏に位置するため、人口の増加も著しい。
- B. 山間部ではキャベツやレタスなど高原野菜の輸送園芸農業が見られる。平野部では臨海部とは異なる機械などの工業団地が見られ、外国人労働者も多い。
- C. 多くの人々が都心部へ通勤・通学しており、夜間人口よりも昼間人口が少なくなっている。都心部に集中する都市機能を分散するため新都心が建設された。

(3) 次の表1は、これらの鉄道ルートの起点である東京都・大阪府と福井県の産業別人口構成(%) [2012年]を示したものである。その組み合わせが正しいものを表2から1つ選び、ア～カの記号で答えよ。

表1 日本国勢図絵より作成

	第1次	第2次	第3次
①	0.4	18.1	81.5
②	0.4	25.2	74.4
③	3.7	32.1	64.2

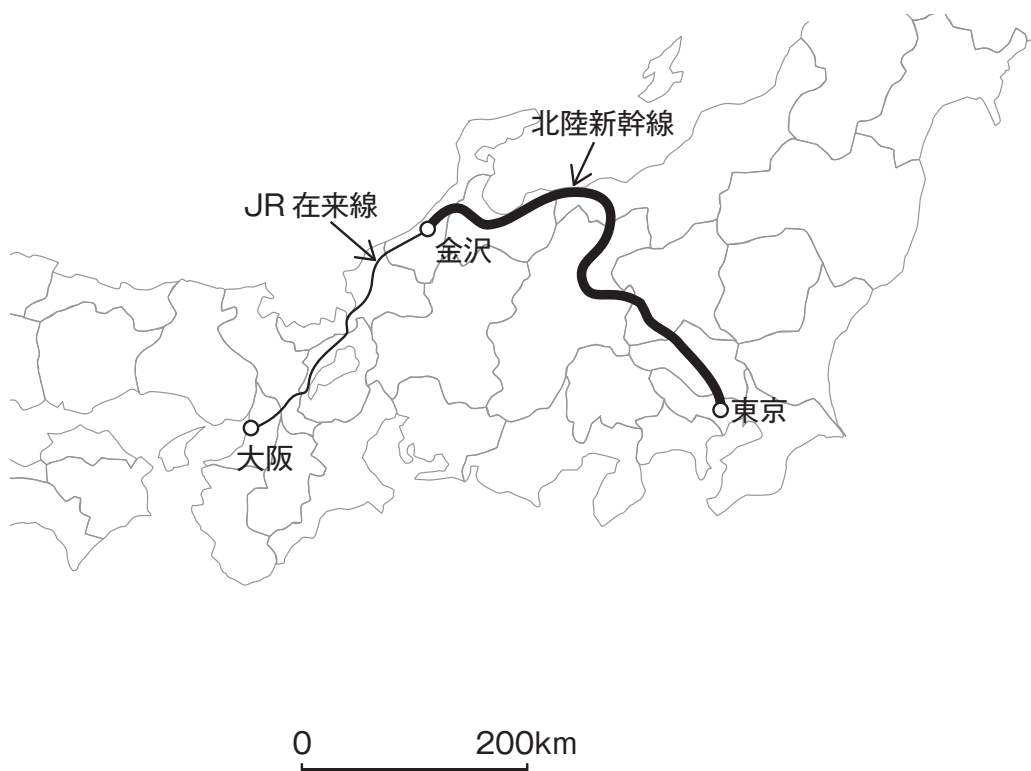
表2

	東 京	大 阪	福 井
ア	①	②	③
イ	①	③	②
ウ	②	①	③
エ	②	③	①
オ	③	①	②
カ	③	②	①

(4) 新幹線の開通などにより人々の交流はさかんになったが、伝統的な食文化は変わらないものが多い。正月に食べる「もち」の形も地域の食文化を象徴している。関東地方と近畿地方では、主にどのような形の「もち」が食べられているか。

○（丸もち）と□（角もち）の正しい組合せを1つ選び、ア～エの記号で答えよ。

	関東地方	近畿地方
ア	○	○
イ	○	□
ウ	□	○
エ	□	□



3 今年の春、「田原町（たわらまち）」駅で、えちぜん鉄道と福井鉄道の相互乗り入れが開始され、えちぜん鉄道三国芦原線沿線（当面は鷺塚針原以南）から乗り換えなしで仁愛女子高校まで通学できるようになる。また、福井鉄道の「福井駅前」駅がJ R福井駅正面に移され、J R沿線から仁愛女子高校までの通学も格段に便利になる。この機会に、2万5千分の1地形図〔平成17年版〕で仁愛女子高校周辺を調べてみることにした。

問(1) 仁愛女子高校からJ R福井駅までの直線距離を測ったら3 cmあった。実際の距離は何mか。

(2) 仁愛女子高校は海拔8 mである。足羽山公園の平和塔（地形図左下）との高度差はどれほどか。正しいものをア～エから1つ選び、記号で答えよ。

ア 約40 m イ 約90 m ウ 約140 m エ 約190 m

(3) 「仁愛女子高校」駅から北方向の電車に乗り「田原町（たわらまち）」駅を經由して「福大前西福井（ふくだいまえにしふくい）」駅まで乗車した。地図上で、路線と各駅から1 cm以内の距離に存在しない建物・施設をア～オから1つ選び、記号で答えよ。

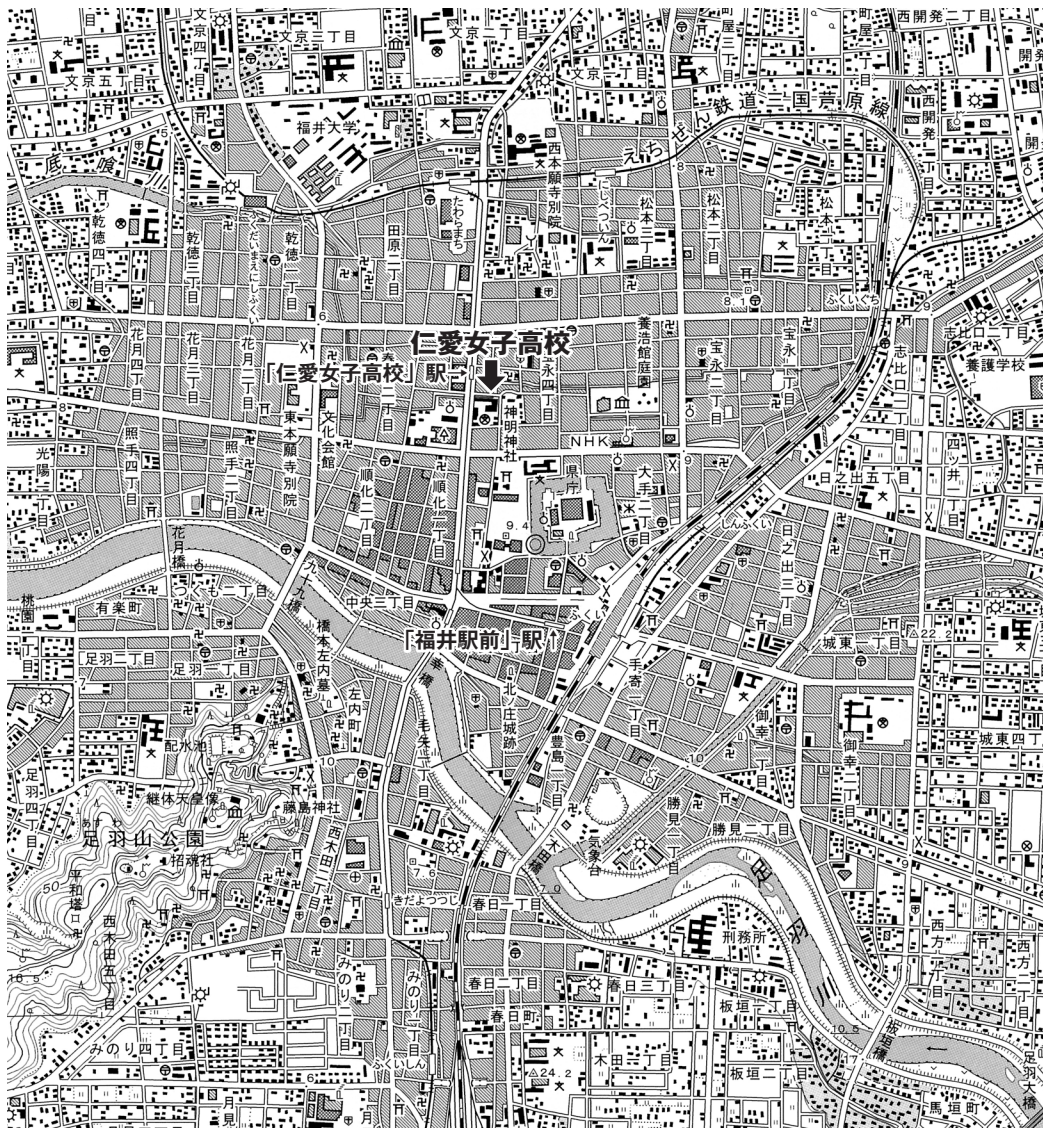
ア 消防署 イ 郵便局 ウ 官公署 エ 病院 オ 美術館・博物館

(4) 「仁愛女子高校」駅から南方向の電車に乗り「福井駅前」駅まで乗車。ここから徒歩である建物へ向かった。到着した建物の名称を答えよ。

「電車を降りると東側にJ R福井駅があった。福井駅からほぼ東に延びる大通りを歩くと、右手に小学校があった。もう少し歩き小学校を過ぎて小さな川を渡ってから右折、川に沿って南西方向に進むと左側に記念碑があった。大きな道路を渡ってさらに歩くと、左側に大きな工場が見えてきた。目的の建物は、川をはさんだ対岸にあった。」

(5) この地形図と同じ地域を5万分の1地形図で表すと、面積は何倍になるか。正しいものをア～エから1つ選び、記号で答えよ。

ア 4分の1倍 イ 2分の1倍 ウ 2倍 エ 4倍



4 それぞれの略年表を見て、あとの問いに答えよ。

A

5 7	<u>①倭の奴国の王が後漢に使いを送る</u>
2 3 9	邪馬台国の卑弥呼が魏に使いを送る
5 9 3	<u>②聖徳太子が摂政になる</u>
6 0 7	<input type="text"/> ③ を隋に送る
6 4 5	大化の改新がはじまる

問(1) 次の資料1は、下線の部分①のように使いを後漢に送り、皇帝から金印を授けられたと示されている。この資料名を答えよ。

資料1 (部分要約)

建武中元2(57)年に倭の奴国が後漢に朝貢したので、光武帝は印綬(印とそれを結びとめるひも)をおくった。…桓帝と霊帝のころ(2世紀)、倭はおおいに乱れ、長い間代表者が定まらなかった。

(2) 下線の部分の②の聖徳太子は大王(天皇)を中心とする政治制度を整えようとした。なかでも、かんむりの色などで地位を区別する制度は、家柄にとらわれず、才能や功績のある人物を役人に取り立てた。この制度を答えよ。

(3) ③ に入る、隋に派遣された人物名を答えよ。

B

7 1 0	都を奈良(平城京)に移す
7 4 3	<input type="text"/> ④ が出される
7 9 4	都を京都(平安京)に移す
8 9 4	<u>⑤遣唐使が停止される</u>
1 0 1 6	<input type="text"/> ⑥ が摂政になる
1 0 8 6	白河上皇の院政がはじまる
1 1 6 7	平清盛が太政大臣になる

(4) 資料2の内容から ④ に入る法律を答えよ。

資料2 (部分要約)

天平15年5月27日 次のような詔が出された。

聞くところでは、養老7(723)年の規定では、墾田は期限が終われば、ほかの土地と同様に国におさめられることになっている。しかし、このために農民は意欲を失い、せつかく土地を開墾しても、またあれてしまう。今後は私有することを認め、期限を設けることなく永久に国におさめなくてもよい。

(続日本紀)

(5) 下線の部分⑤について、唐のおとろえと往復の危険を理由に派遣の停止を訴えた人物を答えよ。

(6) ⑥ に関する人物について、資料3を読んでその人物を答えよ。

資料3 (部分要約)

寛仁2(1018)年10月16日

今日は威子を皇后に立てる日である。…太閤がわたしを呼んでこう言った。「和歌をよもうと思う。ほこらしげな歌ではあるが、あらかじめ準備していたものではない。」

この世をば わが世とぞ思う 望月の欠けたることも 無しと思えば

(小右記)

C

1 1 9 2	<u>⑦源頼朝が征夷大將軍になる</u>
1 2 2 1	承久の乱がおこる
1 3 3 8	足利尊氏が征夷大將軍になる
1 4 6 7	<u>⑧応仁の乱がおこる</u> (~1477)
1 5 4 9	ザビエルがキリスト教を伝える
1 5 7 5	<u>⑨長篠の戦いがおこる</u>
1 5 9 0	豊臣秀吉が全国を統一する

(7) 下線の部分⑦について、鎌倉文化を代表する右の資料4・資料5は、運慶によって制作された金剛力士像である。この像が安置されている寺院名を答えよ。

(8) 下線の部分⑧の応仁の乱は、將軍のあとつぎ問題をめぐって、有力な守護大名による対立から始まった。この時の將軍を答えよ。

(9) 下線の部分⑨について、右の資料6の「長篠合戦図屏風」は織田信長が鉄砲を使った戦いとして有名だが、この戦いで織田信長と戦った戦国大名を答えよ。

資料4



資料5



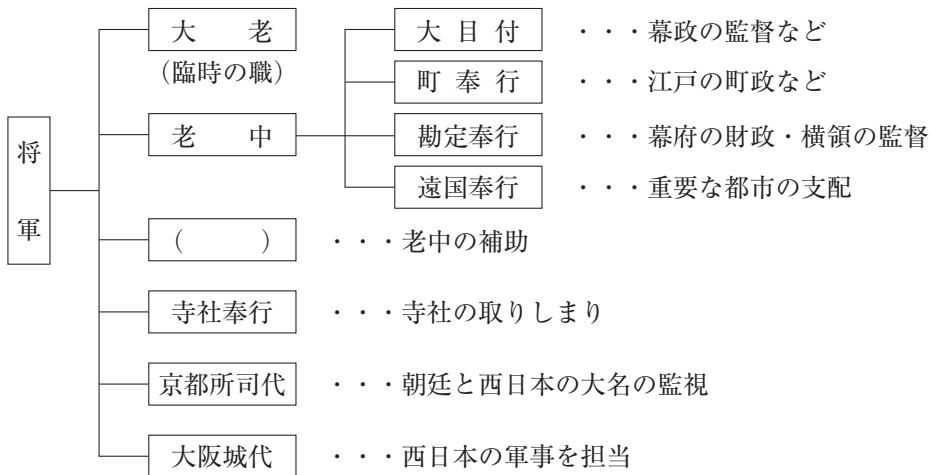
資料6



D

1600	関ヶ原の戦いがおこる
1603	<u>⑩徳川家康が征夷大将軍になる</u>
1716	享保の改革が始まる
1867	大政奉還がおこなわれる 王政復古の号令が出される
1889	<u>⑪大日本帝国憲法が発布される</u>
<u>⑫</u>	広島・長崎へ原子爆弾が投下される ポツダム宣言を受諾する
1951	サンフランシスコ平和条約が結ばれる
1978	日中平和友好条約が結ばれる

(10) 下線の部分⑩によって、江戸幕府がはじまった。下の江戸幕府のしくみの
に入る役職を答えよ。



(11) 下線の部分⑪の大日本帝国憲法の制定を受けて、欧米と国際的に対等な地位を得るため、近代化を推し進めた。右の絵のような国際社交場となった官営の施設名を答えよ。

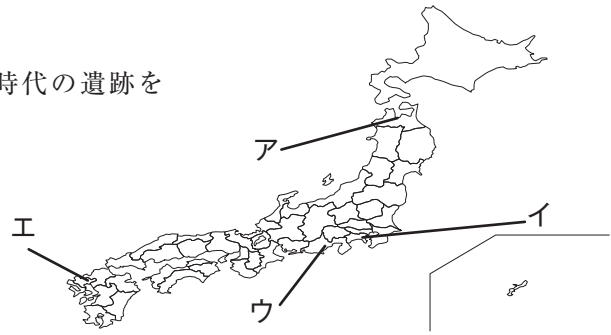


(12) ⑫ にあてはまる年を西暦で答えよ。

5 次の各問いに答えよ。

問(1) 右の地図のア～エから縄文時代の遺跡を

1つ選び、記号で答えよ。




(2) 次のア～エの写真から飛鳥文化に関係のないもの1つを選び、記号で答えよ。

ア

イ

ウ

エ



(3) 鎌倉時代に日本を従わせようと元と高麗が攻めて来た。次の絵はその時の様子を描いた「蒙古襲来絵詞」である。この時の元の皇帝と鎌倉幕府の執権との組み合わせで正しいものをア～エから選び、記号で答えよ。



ア (チンギス・ハン 北条泰時)

イ (チンギス・ハン 北条時宗)

ウ (フビライ・ハン 北条泰時)

エ (フビライ・ハン 北条時宗)

- (4) 次のルネサンスの時期の作品と作者の組み合わせで正しいものを選び、記号で答えよ。

A



B

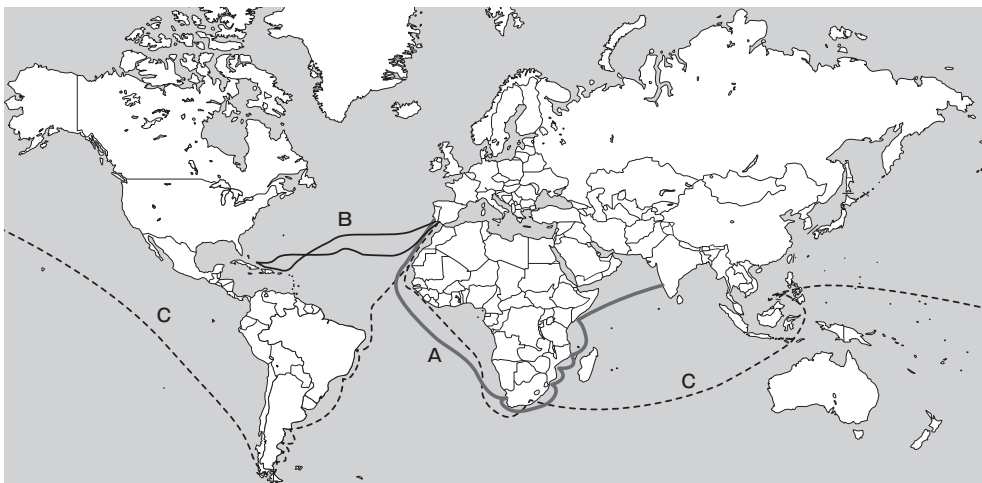


C



- ア (A ミケランジェロ B レオナルド・ダ・ビンチ C ボッティチェリ)
 イ (A ボッティチェリ B レオナルド・ダ・ビンチ C ミケランジェロ)
 ウ (A レオナルド・ダ・ビンチ B ミケランジェロ C ボッティチェリ)
 エ (A ミケランジェロ B ボッティチェリ C レオナルド・ダ・ビンチ)


- (5) 下の地図は15世紀後半から16世紀にかけて大航海に乗り出したヨーロッパ人の航路である。A～Cの航路を開いた人物などの組み合わせで正しいものを選び、記号で答えよ。



- ア (A コロンブス B マゼラン船隊 C バスコ・ダ・ガマ)
 イ (A マゼラン船隊 B コロンブス C バスコ・ダ・ガマ)
 ウ (A バスコ・ダ・ガマ B コロンブス C マゼラン船隊)
 エ (A バスコ・ダ・ガマ B マゼラン船隊 C コロンブス)


(6) 次の風景画の作者を下から1つ選び、記号で答えよ。

- ア 歌川（安藤）広重
- イ 喜多川歌麿
- ウ 葛飾北斎
- エ 東洲斎写楽




(7) 次のア～エから法の精神と三権分立を説いた人物を選び、記号で答えよ。

ア




ルソー

イ




ロック

ウ



ジョージ・ワシントン

エ



モンテスキュー

(8) 次の絵は下関講和会議の様子を描いている。この講和会議では、日清戦争に勝利した日本に有利な下関条約が結ばれた。しかし満州への進出をねらう国などが、遼東半島を返還するように勧告してきた。この勧告に関係しない国をア～エから選び、記号で答えよ。

- ア フランス
- イ イタリア
- ウ ロシア
- エ ドイツ



(9) 次の写真は1960年の日米安全保障条約の改定に対する反対運動（安保闘争）で国会議事堂を取り囲んでいる様子である。この時の内閣総理大臣をア～エから選び、記号で答えよ。

- ア 吉田 茂
- イ 鳩山一郎
- ウ 岸 信介
- エ 佐藤栄作



6 次の文章は、家族（父母と姉弟）の会話である。これを読んで、あとの問いに答えよ。

姉：今年も雪まつりがもうすぐ始まるんだって。大きな雪像が造られていく様子のニュースをテレビでやっていたわ。パパとママは去年、見に行ってきたのよね。

母：それって、「さっぽろ雪まつり」のことね。夜は雪像がライトアップされていてとても素敵だったわよ。a 札幌から小樽運河、支笏湖の水まつり、b 函館の夜景も見に行ってきたわよ。冬のc 北海道でマイナス10度とさらさらの粉雪の世界を体験してきたわ。

父：それにしても中国人の観光客が多かったよなあ。d 函館の朝市に来ていた観光客は7割以上が中国人だっただろうか。札幌市内を走る観光バスの外側にも中国語の表記があったしね。お店は英語よりも中国語や韓国語の表記が目立ったなあ。彼らはお土産を驚くほどたくさん買っていたよ。

姉：それって「爆買い」っていうんでしょ。お土産だけでなく、医薬品や日用雑貨や家電製品なども大量に購入して帰国するって聞いたわ。私たち日本人のd 消費者の買う分がなくなってしまうわ。

母：そうね。大丈夫だとは思うけど、「爆買い」で品不足になったら心配よね。でも、中国の人が買ってくれば日本の企業は儲かるから日本は経済的に潤うのよ。観光ではなくて、日本製品を購入する目的でやってくることも多いのよ。日本の商品は性能や品質が優れているからよ。日本はe 資本主義経済が発達した自由競争の国だからね。良い商品がどんどん作られてるのよ。

弟：その中国だけど、南シナ海の人工島に軍事的とも思える施設を作って、周辺のフィリピンやベトナムなどの国々と対立してるんでしょ。

父：そうなんだよなあ。中国とは経済的にはつきあいたいけど、政治的っていうか、外交っていうか、つきあいは難しい国だな。日本の領土であるf 尖閣諸島についてもその領有を主張しているしね。f 日本の安全保障について、今後、国民が真剣に考えていかなければならない重要な問題になってくるな。

弟：国と国とが対立することなく、世界の人々が安心して平和になかよく暮らしていけたらいいのになあ。

母：そうよね。わが家はみんな元気で健康で、なかよく暮らせて幸せよね。二人ともパパに感謝しなくちゃダメよ。でもパパはg 働き過ぎには気をつけて下さいね。

問(1) 下線の部分 a の都市と緯度が最も近い都市を次の中から 1 つ選び、記号で答えよ。

ア シドニー

イ スtockホルム

ウ ローマ

エ リオデジャネイロ

(2) 下線の部分 b の都市にある歴史的な遺跡はどれか。次の写真から 1 つ選び、記号で答えよ。

ア



イ



ウ



エ



(3) 下線の部分 c の地方と関係が深い事गरらを次の中から 2 つ選び、記号で答えよ。

ア アットウシという衣服

イ ^{びんがた}紅型という染色技法

ウ ^{がっしょうづく}合掌造りという建築

エ エイサーという踊り

オ チェフオハウという伝統料理

(4) 下線の部分 d の権利について、1962年にアメリカのケネディ大統領が明確にした四つの権利とは何か。次の中から 誤っているものを 1 つ選び、記号で答えよ。

ア 知らされる権利

イ 意見を反映させる権利

ウ 選択する権利

エ 安全を求める権利

オ 安く買うことができる権利

- (5) 下線の部分 e における生産活動の中心は株式会社であるが、株式会社について説明した次の文で正しいものを1つ選び、記号で答えよ。
- ア 発行したすべての株式は、各都道府県に設置されている証券取引所で売買される。
- イ 株式会社が儲けたお金（利潤）の全額は配当として株主に分配される。
- ウ 株式会社の経営方針を決定したり役員を選任を行うのは取締役会である。
- エ 株式が多くの小株主に分散して所有されていることが多くなり、会社の経営を専門の経営者にゆだねているのが一般的になった。
- (6) 下線の部分 f に関連して、現在までの日本の自衛隊の任務について説明した次の文で誤っているものを1つ選び、記号で答えよ。
- ア カンボジアや東ティモールなどで国連平和維持活動を行ってきた。
- イ アメリカと共同で尖閣諸島^{せんかくしょとう}で中国艦船の監視にあたっている。
- ウ 公海上で海賊対策のための護衛活動を行っている。
- エ 国民の命や財産を守るために災害派遣を行ってきた。
- オ アフガニスタンやイラクでの紛争処理への参加をしてきた。
- (7) 下線の部分 g に関連して、「労働時間は週40時間、1日8時間以内」「少なくとも週1日の休日」「男女同一賃金」が定められている労働に関する法律を次の中から1つ選び、記号で答えよ。
- ア 労働組合法 イ 労働関係調整法
ウ 労働基準法 エ 男女雇用機会均等法

7 次のA～Dの新聞記事（平成26年11～12月と平成27年10月の福井新聞より抜粋）を読んで、あとの問いに答えよ。

A 安倍晋三首相は7日、内閣を改造し、皇居での閣僚認証式を経て第3次安倍改造内閣が発足した。首相は官邸で記者会見し、環太平洋連携協定（TPP）の国内対策に伴う2015年度補正予算編成に関し「さまざまな観点から今後検討を進める」と表明した。国内総生産の大幅増などを目指す「1億総活躍社会」実現に向けて工程表策定を急ぎ、年内に具体策の第1弾を打ち出す方針を示した。持論とする a 憲法改正 の議論深化に意欲を見せた。

B b 衆議院は21日午後の本会議で解散された。これを受け政府は臨時閣議で衆議院選挙日程を「12月2日公示、14日投開票」と決定した。安倍晋三首相（自民党総裁）が掲げる経済政策「アベノミクス」継続の是非を中心に「安倍政治」に対する審判となる。2年前の衆議院選挙で圧勝した自民党が「1強」を維持するか、c 野党 が躍進して勢力伯仲となるのが焦点だ。

C 第47回衆議院選挙は14日に投票、即日開票され、15日未明に 全当選者が確定した。自民、公明両党は定数の3分の2（317議席）を上回って計325議席となり、安倍政権の継続が決まった。自民党は単独で290議席を獲得したが、公示前の295には及ばなかった。… 中略 … e 福井県小選挙区の投票率は50.00%で、前回は11.75ポイント下回り、戦後最低を更新した。

D 衆議院選挙を受けた第188特別国会は24日召集され、安倍晋三首相が f 衆参両院での首相指名選挙で第97代首相に選出された。首相は皇居での首相任命式などを経て夜に 第3次安倍内閣を発足させた。

問(1) A～Dの新聞記事を古い順番に正しく並べたものを次から1つ選び、記号で答えよ。

ア A → B → C → D イ B → C → A → D

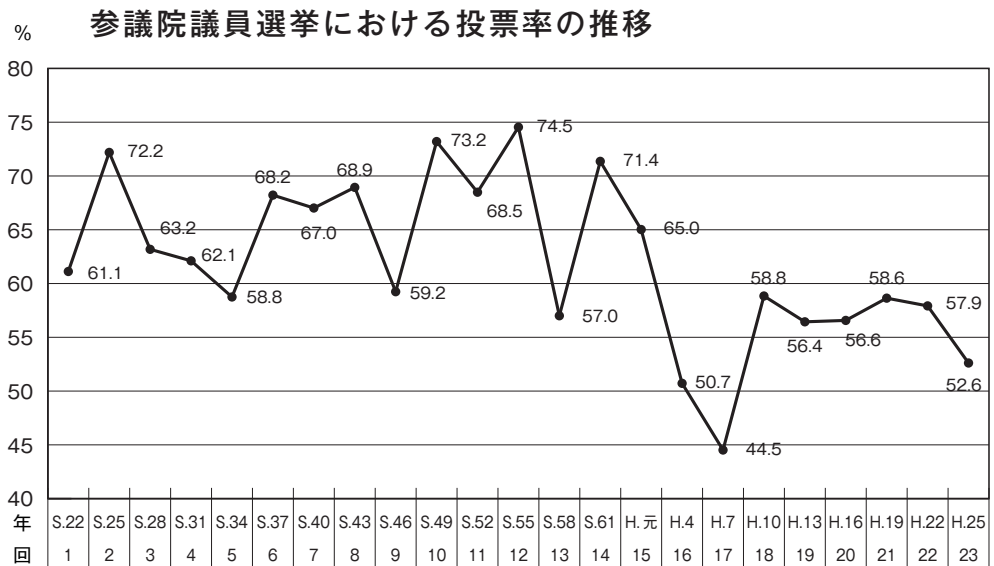
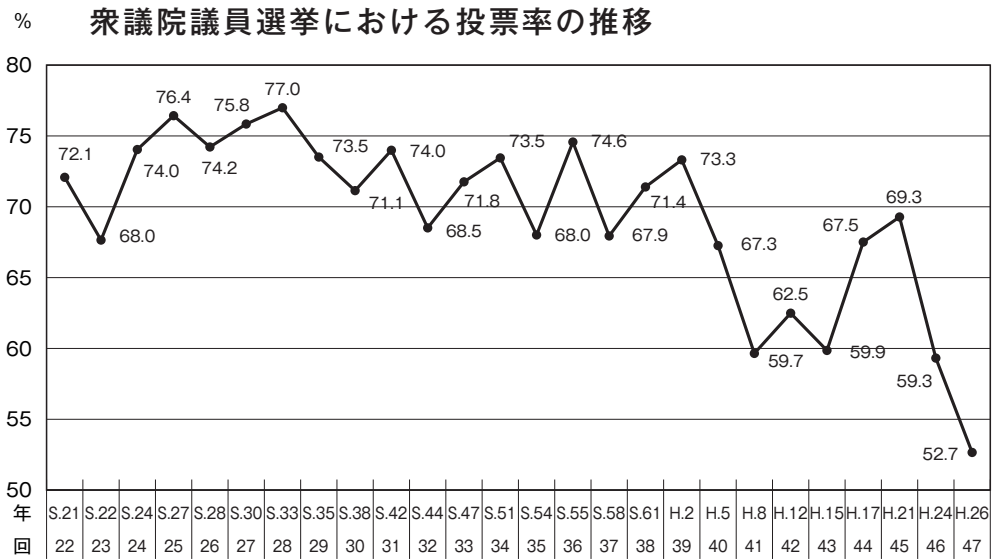
ウ D → A → B → C エ A → D → B → C

オ B → C → D → A カ D → B → C → A

(2) 下線の部分 a について、日本国憲法の改正は憲法第96条をもとに行われるが、2007年に制定された具体的な憲法改正手続きを定めた法律の名前を答えよ。

(3) 下線の部分 b について、解散は首相の専権事項（思いどおりに決定できる権限）であるが、それ以外に衆議院で 案が可決されて解散になる場合がある。その場合、衆議院が解散されなければ、内閣は総辞職しなければならない。 にあてはまる語句を漢字5文字で答えよ。

- (4) 下線の部分 c に対して、内閣を組織して政権をになう政党のことを何というか答えよ。
- (5) d にあてはまる数字（衆議院の定数）を答えよ。
- (6) 下線の部分 e に関連して、下のグラフは衆議院議員選挙と参議院議員選挙の全国の投票率の推移を表したものである。グラフを見て、投票率について説明した次の文で正しいものを1つ選び、記号で答えよ。



（総務省のホームページより）

- ア 衆議院・参議院ともに投票率が70%を超えたことはない。
- イ 衆議院・参議院のいずれかで投票率が50%を下回ったことはない。
- ウ 昭和61年の衆議院と参議院の投票率は同じである。
- エ 衆議院と比べ、参議院の方が投票率は高い傾向にある。
- (7) 下線の部分 f に関連して、首相指名選挙において、衆議院と参議院とで異なった人物が指名された場合や、予算の議決・条約の承認などで参議院と衆議院が異なった議決をした場合、必ず開かれるものは何か答えよ。
- (8) にあてはまるものを次から1つ選び、記号で答えよ。
- ア 自民党単独の イ 公明党との連立による
- ウ 民主党単独の エ 民主党との連立による

受験番号

平成28年度 仁愛女子高等学校入学試験問題 社会解答用紙

1

問 (1)	A	国名	位置	B	国名	位置	C	国名	位置
	D	国名	位置	E	国名	位置			
問 (2)	①	②	③	④	⑤				
問 (3)					問 (4)				
問 (5)					問 (6)				
問 (7)									

2

問 (1)	①	②	問 (2)	A 漢字	B 漢字	C 漢字
問 (3)		問 (4)				

3

問 (1)		問 (2)		問 (3)		問 (4)		問 (5)	
----------	--	----------	--	----------	--	----------	--	----------	--

4

問 (1)		問 (2)		問 (3)	
問 (4)		問 (5)		問 (6)	
問 (7)		問 (8)		問 (9)	
問 (10)		問 (11)		問 (12)	

5

問 (1)		問 (2)		問 (3)		問 (4)		問 (5)	
問 (6)		問 (7)		問 (8)		問 (9)			

6

問 (1)		問 (2)		問 (3)		問 (4)		問 (5)	
問 (6)		問 (7)							

7

問 (1)		問 (2)		問 (3)		問 (4)	
問 (5)		問 (6)		問 (7)		問 (8)	