

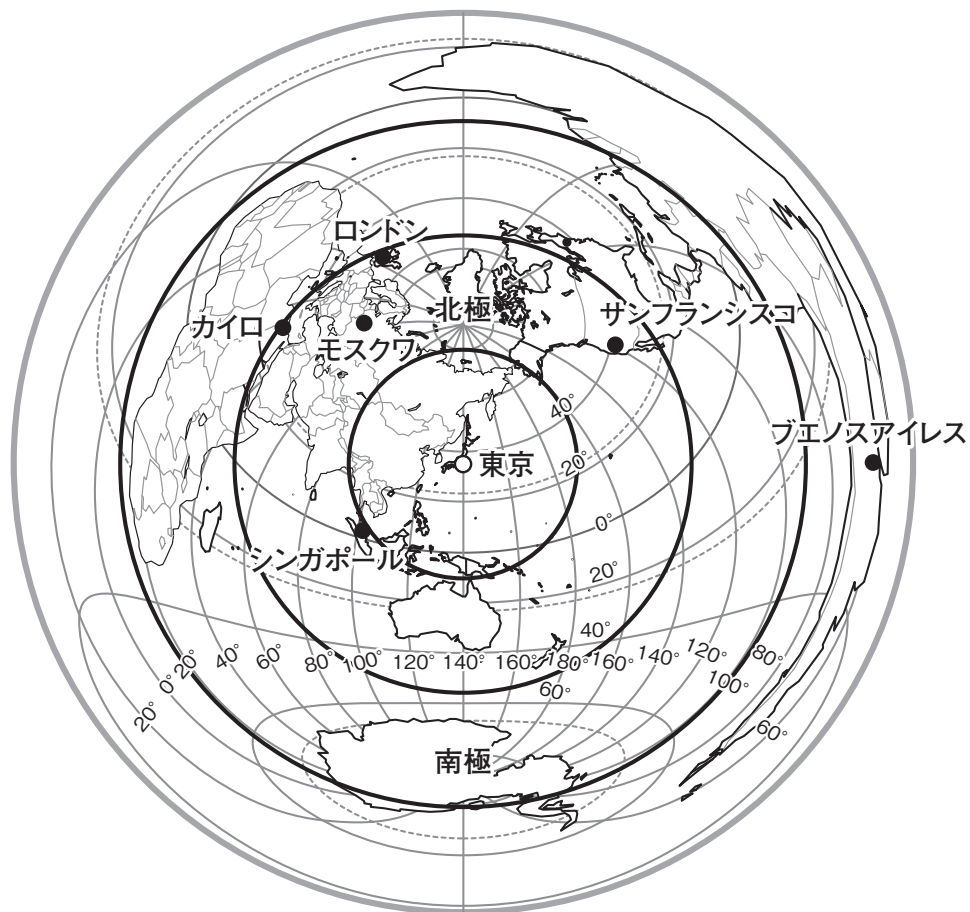
平成30年度
入学試験問題

社 会

2月6日 第1限

仁愛女子高等学校

1 下の地図（東京を中心とした半径20,000 kmの地図）を見て以下の問いに答えよ。



問(1) (①) ~ (④) にあてはまる正しい語・都市名を答えよ。

この地図は中心からの (①) と方位が正しくあらわされている。カイロは東京から見て (②) の方位に位置している。地図上の6都市（東京を除く）のうち一番高緯度にある都市は (③) である。また、南半球にある都市は (④) である。

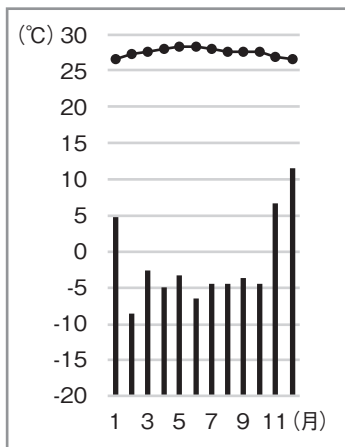
(2) 東京からシンガポールまでの直線距離は約何 km か。1,000の倍数で答えよ。

(3) 時差に関して、次の問いに答えよ。

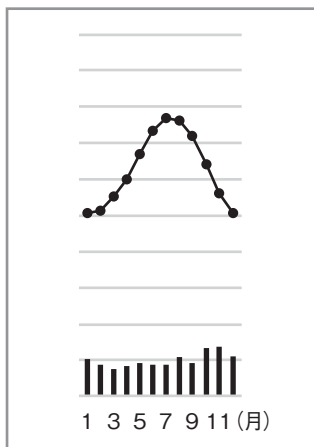
- ① 日本とサンフランシスコの時差は17時間である。日本が2月2日午前11時のとき、サンフランシスコは2月何日何時か。
- ② 日本とロンドンの時差は9時間である。中部国際空港を2月2日午後6時に出発した飛行機はロンドンの空港に2月2日午後9時（ロンドン時間）に到着した。飛行時間は何時間か。

(4) 次のグラフは地図上の6都市（東京を除く）の気温・降水量を示したものである。
シンガポール・サンフランシスコに該当するグラフをそれぞれ選び、A～Fの記号で
答えよ。

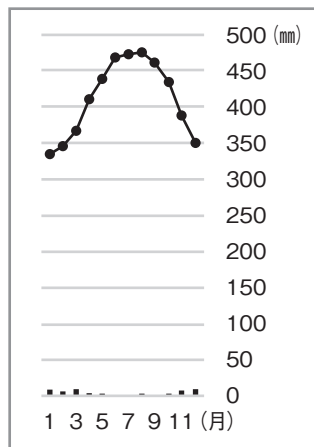
(理科年表より作成)



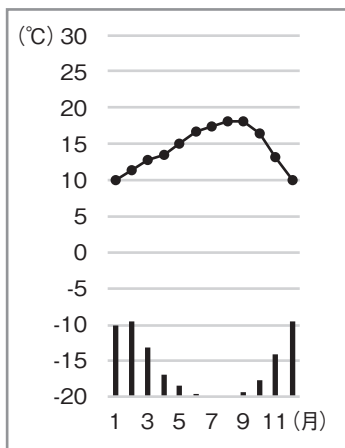
A



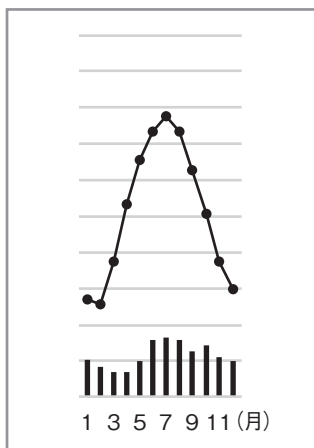
B



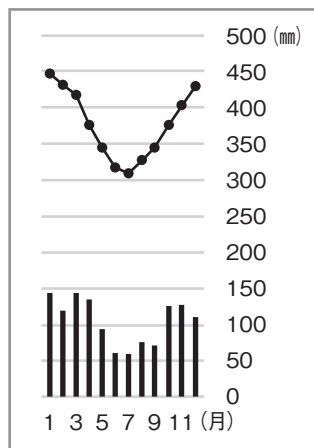
C



D



E



F

(5) 地図上の6都市（東京を除く）が属する国に関して、次の問いに答えよ。

①イギリス（ロンドン）

この国は2016年の国民投票でヨーロッパの経済的・政治的な統合組織からの離脱を決めた。この組織を何というか、アルファベットで答えよ。

②ロシア（モスクワ）

この国はヨーロッパとアジアに広がり広大な面積を有する。ヨーロッパとアジアの境界に位置する山脈名を答えよ。

③エジプト（カイロ）

この国で広く信仰されている宗教名を答えよ。

④シンガポール（シンガポール）

この国を含むアジアの4か国・地域は工業化に取り組み急速な成長をとげた。これら4か国・地域は何と呼ばれているか答えよ。

⑤アルゼンチン（ブエノスアイレス）

この国を含めブラジル以外の南アメリカで広く話されている言語は何か答えよ。

⑥アメリカ合衆国（サンフランシスコ）

この国の北緯37°より南に位置する地域は、ハイテク産業や情報技術産業が発達し経済が急成長している。この地域のことを何というか答えよ。

2 今年10月、50年ぶりに福井県で国民体育大会が開かれる。これを機会に、福井県の前の3年間に開催された3つの県、福井県の後の3年間に開催される予定の3つの県について調べてみた。以下の問いに答えよ。

平成27年 (2015)	平成28年 (2016)	平成29年 (2017)	平成30年 (2018)	平成31年 (2019)	平成32年 (2020)	平成33年 (2021)
和歌山県	岩手県	愛媛県	福井県	茨城県	鹿児島県	三重県

問(1) この7つの県のうち、現在、新幹線の駅がある県が2つある。県名を2つとも答えよ。

(2) 下の表は7つの県の面積・人口・第一次産業人口比率を示したものである。福井県に該当するものを選び、ア～キの記号で答えよ。

	ア	イ	ウ	エ	オ	カ	キ
面積 (100km ²)	153	92	61	58	57	47	42
人口 (万人)	128	165	292	182	139	96	79
第一次産業人口比率 (%)	12.0	10.0	5.8	3.7	8.0	9.3	3.9

(平成27年国勢調査結果ほか)

- (3) 下の地図は、福井県を除く6つの県の位置を示したものである。6つの県のうち、位置が間違っているものを1つ選び、a～fの記号で答えよ。



- (4) 下の語句は、福井県を除く6つの県と関係の深いものである。和歌山県・愛媛県・鹿児島県に該当するものを選び、①～⑥の数字で答えよ。

- ① みかん・梅の栽培 ② リアス海岸，真珠の養殖 ③ 本州四国連絡橋
④ 筑波研究学園都市 ⑤ 南部鉄器 ⑥ シラス台地

- (5) 下の表は、福井県を除く6つの県の昼夜間人口比率である。岩手県・愛媛県・鹿児島県がほぼ100に近いのに対して、和歌山県・茨城県・三重県が100をかなり下回っている。和歌山県・茨城県・三重県の値が小さい理由を次の語句を使って説明せよ。

語句 三大都市圏・夜間人口・昼間人口

(平成27年国勢調査結果)

岩手県	愛媛県	鹿児島県	和歌山県	茨城県	三重県
99.7	99.9	99.9	97.6	97.3	98.1

※昼夜間人口比率とは、 $\frac{\text{昼間人口}}{\text{夜間人口}} \times 100$ の値である。

- (6) 愛媛県の新居浜・茨城県の鹿島には、石油化学コンビナートが建設されている。両地域に石油化学コンビナートが建設された共通する理由を述べた次の文章の()内に正しい語句を漢字2文字で答えよ。

海上交通の便がよい()部は、外国からの石油の()に適している。

3 次のA～Dには、福井県にゆかりのある人物について記されている。以下の問いに答えよ。

A 道元
鎌倉時代初期の禅僧。越前国に永平寺を建立。

B 岡倉天心
福井藩士の家の出身で、とともに日本の美術の復興に努めた。

C 紫式部
父である藤原為時は国司として越前国に滞在していたことがある。この際に娘の紫式部も連れてきていたとされる。

D
越前国の武士杉森信義の次男として生まれたとされる。代表作「曾根崎心中」など、現実に関起った事件をもとに、浄瑠璃や歌舞伎の台本を書いた。

問(1) Aに関して、道元によって伝えられた宗教は、禅宗の中でも特に何と呼ばれるか答えよ。

(2) Bに関して、Bの説明文を参考にに当てはまる人物として、正しいものをア～エの中から1つ選び、記号で答えよ。

- ア セシル・ローズ イ フェノロサ
ウ リズレー エ ラフカディオ・ハーン

(3) Cに関して、以下の問いに答えよ。

- ① この人物が著した作品名を答えよ。
② この時代の説明として、最も適切なものをア～エの中から1つ選び、記号で答えよ。

- ア この頃、「新古今和歌集」が編集された。
イ この頃には摂政や関白が政治の中心となり、地方の政治はほとんど国司に任せられるようになっていた。
ウ この頃には大宝律令が制定され、天皇と天皇から高い位を与えられて貴族となった者が中心になって政治を行った。
エ この頃、北条氏が將軍の力を弱めて執権の地位につき、その地位を独占するようになった。

(4) Dに関して、Dの説明文を参考に、Y に入る人名を答えよ。

(5) A～Dを、時代の古い順に並び替えたとき、最も適切なものをア～カの中から1つ選び、記号で答えよ。

ア A → B → C → D イ A → C → D → B
ウ C → A → B → D エ C → A → D → B
オ D → C → A → B カ D → A → B → C

4 次の会話文を読み、以下の問いに答えよ。

まさと 人間っていつから絵を描き始めたのかな。

ともこ さあね。正確には分からないわ。けれど、今人類最古の絵と言われているのはヨーロッパや東南アジアにある洞窟^{どうくつ}壁画^{びやく}ね。正確には分かっていないけれど3万年も前とか4万年も前とか言われたりもしているのよ。

まさと へえ。僕は絵といえばA現存する日本最古の木造建築がつくられた時代あたりから描かれ始めたと思っていたけれど、もっと古い時代に描かれていたんだね。

ともこ 絵は、見たものをそのまま描写したり、想像を形にしたりと表現はいろいろあるけれど、1つの絵からいろいろなことが読み取れるから面白いわね。

まさと 1つの絵からいろいろなことが読み取れるって？

ともこ 例えばこの絵。Bこの絵は、15世紀にアジアに行く航路を開くために、スペインからの援助を受けて航海した人物を描いたものよ。(図㉔)

まさと なるほどね。描かれているものからいろいろなことに気が付けるんだね。

ともこ Cそれに、絵はその描かれた時代の文化をうつし出すこともあるのよ。(図㉕)

まさと そっか。絵を眺めているといろいろなことが読み取れるんだね。

ともこ D私が最近気に入っているのは、歴史的な出来事などを絵であらわしている風刺画^{ふうしゑ}というものよ。

まさと へえ、これは面白いや。いろんな出来事がユニークに表現されているね。


問(1) 下線の部分Aについて、次の問いに答えよ。

① 現存する日本最古の木造建築とは何か答えよ。

② この建物を建てた人物はある天皇の摂政となっている。ある天皇とは誰か答えよ。

(2) 下線の部分Bについて、図㉔の絵があらわしている状況とこの絵画から読み取ることができる事柄について、絵の中の矢印で示されている人物の人名を明らかにした上で、下の語句をすべて使用し、簡潔に説明せよ。

図㉔



語句


西インド諸島	偏見	先住民
--------	----	-----

(3) 下線の部分Cについて、次の問いに答えよ。


図㉕

- ① 図㉕の作者は誰か答えよ。
- ② 図㉕が描かれた時代の文化の説明として、最も適切なものをア～エの中から1つ選び、記号で答えよ。

- ア 武家をにない手とする簡素で気品ある文化。
- イ 貴族をにない手とする、唐風の文化をふまえながらも、日本の風土や生活、日本人の感情に合った文化。
- ウ 庶民をにない手とする、江戸を中心とした文化。
- エ 仏教と唐の文化の影響を強く受けた、国際的な文化。



(4) 下線の部分 D について、次の問いに答えよ。



- ① 次の資料は、ある戦争にあたって発表した、ある人物の作品の一部である。その戦争に関する風刺画を上の上の a～cの中から1つ選び、記号で答えよ。また、この作品の作者名を答えよ。

資料

あゝをとうとよ君を泣く 君死にたまふことなかれ 末に生まれし君なれば
親の情けはまさりしも 親は刃をにぎらせて 人を殺せとをしへしや

- ② 上の風刺画 a～c があらわしている歴史的な出来事を古い順に並べ替えたとき、最も適切なものをア～カの中から1つ選び、記号で答えよ。

ア	a → b → c	イ	a → c → b
ウ	b → a → c	エ	b → c → a
オ	c → b → a	カ	c → a → b

- ③ 右の風刺画 d があらわしているものとして、最も適切なものをア～エの中から1つ選び、記号で答えよ。

- ア 日本人が洋服に身をつつみ、動物園へ出かけていく様子が描かれている。
イ 日本人が西洋人の猿真似をして、慣れない洋服を着ている様子は西洋人の目にはこっけいに見える様子が描かれている。
ウ 容姿や街並みだけでなく、完璧に西洋に劣らなくなった日本が、かつての自分たちを野蛮であったと顧みている様子が描かれている。
エ 着物を着て刀を差すのが美しいと考えている日本人が、西洋人を野蛮なものとして低評価している様子が描かれている。

d




- ④ 右の風刺画 e があらわしているものとして、最も適切なものをア～エの中から1つ選び、記号で答えよ。

- ア この絵は日中戦争をしかけ、また大東亜共栄圏の建設を唱えている日本に対し、A B C D包囲陣を形成する諸外国の様子をあらわしている。
イ この絵はアメリカを中心とする資本主義の西側陣営とソ連が率いる共産主義の東側陣営が、世界を二分している様子をあらわしている。
ウ この絵は列強による中国の分割の様子をあらわしており、中国の分割にはアメリカが関与していないことが分かる。
エ この絵は中国を21個に分断しようとしている様子が描かれており、満州での権益の拡大や、旅順・大連の租借期間の延長などを盛りこんだ二十一か条の要求をあらわしている。

e



- (5) 次の図は昭和36年に描かれた、100年後の東京の様子である。以下の問いに答えよ。



(昭和36年「たのしい四年生」1月号)

- ① この絵が描かれた頃の日本国内の様子について、最も適切なものをア～エの中から1つ選び、記号で答えよ。

ア この年、日本はアメリカなど48か国とサンフランシスコ平和条約を結び、国際社会への復帰の第一歩を踏み出した。

イ この翌年、第四次中東戦争をきっかけとして石油危機が起こり、日本の高度経済成長が終わった。

ウ この前年、池田勇人内閣が所得倍增計画を掲げるなど、政府も経済成長を積極的に推進していた。

エ この頃、投機によって株式と土地の価格が異常に高くなる、バブル景気が発生していた。

- ② この図が描かれた時代の前後十数年の間に日本で起こった出来事を3つ挙げた。この3つの出来事を時代の古い順に並べ替えたとき、正しいものをア～カの中から1つ選び、記号で答えよ。

I 韓国との間で日韓基本条約を結んだ。

II 日ソ共同宣言が調印され、ソ連との国交が回復した。

III 日中共同声明によって中国との国交を正常化した。

ア	I	→	II	→	III		イ	I	→	III	→	II
ウ	II	→	I	→	III		エ	II	→	III	→	I
オ	III	→	I	→	II		カ	III	→	II	→	I

5 次のⅠ・Ⅱの新聞記事を読んで、以下の問いに答えよ。

Ⅰ

□□□□，A 平和主義，B 基本的人権の尊重を基本原理とする日本国憲法が公布されて70年を迎えた。国民に寄り添い、生きる規範であった憲法がかつてないほど激しい改正論議に巻き込まれつつある。いわゆる「押し付け」憲法から脱却し、自主憲法制定を主張する政治勢力の本格台頭である。
(福井新聞2016年11月3日より抜粋)

Ⅱ

日本国憲法の施行70周年を記念する衆参両院主催の式典が26日、東京都千代田区の憲法記念館であった。式典に出席した安倍晋三首相は「憲法は国の未来、理想を語るもの。憲法の普遍的価値を深く心に刻みながら、新しい時代の理想の姿を描いていくことが求められている。」と述べ、C 憲法改正に改めて意欲を示した。
(朝日新聞2017年4月27日より抜粋)

問(1) Ⅰの記事の □□□□ に当てはまる語句を漢字4字で答えよ。

(2) 下線の部分Aに関連して述べたア～エの文の中から誤っているものを1つ選び、記号で答えよ。

ア 自衛隊は東ティモールやカンボジアなどで国連のPKOに参加した。

イ 日本は防衛のためにアメリカと日米安全保障条約を結んでいる。

ウ 現在、日本にあるアメリカ軍施設の約39%、面積にすると約74%が北海道に集中している。

エ 日本は核兵器について非核三原則を掲げている。

- (3) 下線の部分Bに関連した①～⑤の新聞記事は、次のア～オのどの権利と関連深いか。最も関連が深いと考えられる権利をア～オから選び、それぞれ記号で答えよ。ただし、同じ記号は1回のみを使用とする。

ア 社会権 イ 自由権 ウ 平等権 エ 参政権 オ 環境権

① 障害者に対する「差別的取り扱いの禁止」や「合理的配慮」を行政機関や民間事業者に求める障害者差別解消法案が18日、参院内閣委員会で全会一致で可決された。19日の参院本会議で可決、成立する見通しだ。国連の障害者権利条約を批准する環境が整う。
(朝日新聞2013年6月19日より抜粋)

② 国による生活保護基準引き下げは生存権を保障する憲法25条に反するとして、受給者が各地で提訴した裁判の全国支援ネットワークが7日、設立された。「いのちのとりで裁判全国アクション」と名付けられ、作家の雨宮処凛さんら6人が共同代表となった。
(朝日新聞2016年11月8日より抜粋)

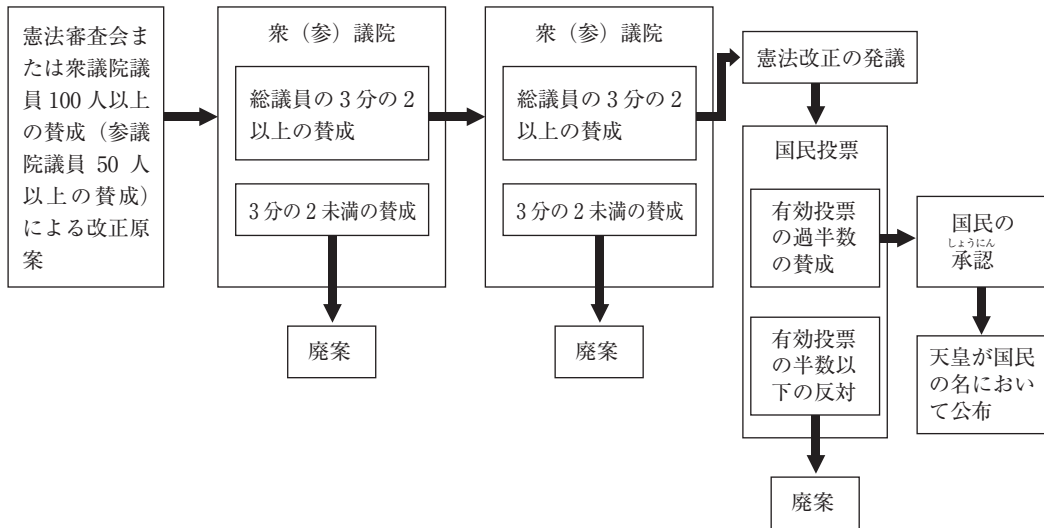
③ 来年夏の参院選から、18、19歳の若者が新たに有権者として一票を投じる。17日の参院本会議で、選挙権年齢を現在の「20歳以上」から「18歳以上」に引き下げる改正公職選挙法が全会一致で可決、成立した。
(朝日新聞2015年6月18日より抜粋)

④ 東京電力福島第一原発事故の後、大気や土壌、川などの放射能汚染に対処する法的根拠がなかった反省をふまえ、環境省は、将来の原発事故に備える法整備へ動き出す。第一歩として、環境基本法から、放射性物質を対象外としている条文を削除する。
(朝日新聞2012年1月13日より抜粋)

⑤ 国連の「表現の自由の促進」に関する特別報告者のデービッド・ケイ氏（米カリフォルニア大教授）が12日、朝日新聞の単独インタビューに応じた。ケイ氏は日本国憲法21条が「集会、結社及び言論、出版その他一切の表現の自由はこれを保障する」「検閲は、これをしてはならない。通信の秘密は、これを侵してはならない」と定めていることについて、「とても強力な保障だ」と高く評価した。
(朝日新聞2017年6月14日より抜粋)

(4) 下線の部分Cについて，日本国憲法の改正の手続きには下記の図のような手続きが必要とされるが，次のような条件で憲法改正の国民投票が実施されたとき，憲法は改正されるか，されないか，どちらか答えよ。

- ・日本国民の有権者数は1億人とする。
- ・投票率55%であった。
- ・無効票300万票が生じた。
- ・改正に賛成と投じた票数は2700万票であった。

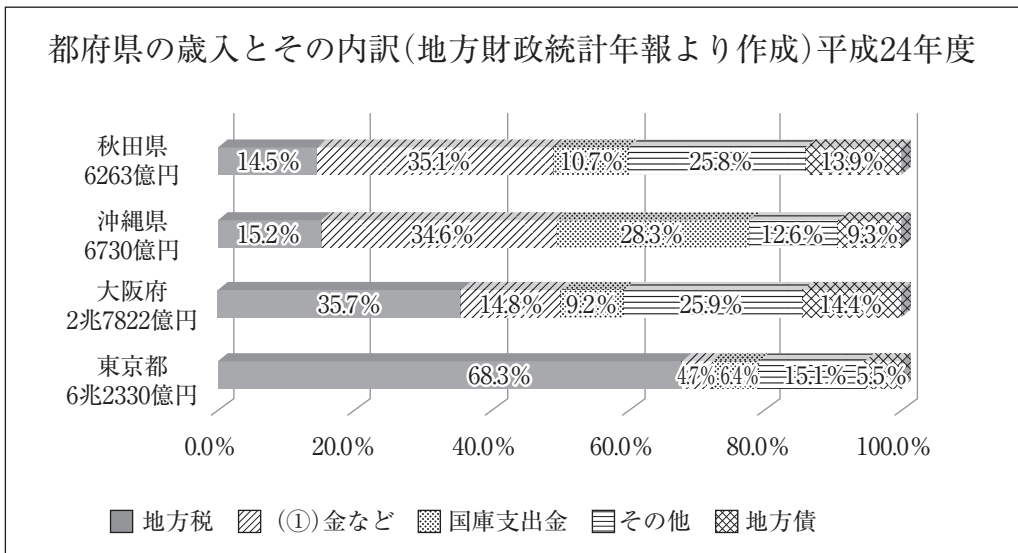


6 次の問いに答えよ。

問(1) 次の文章はある法律の条文である。ある法律とは何か答えよ。

使用者は、1週間の各日については、労働者に、休憩時間を除き1日について8時間を超えて、労働させてはならない。

(2) 次のグラフは、都府県の歳入とその内訳のグラフである。空欄(①)には地方公共団体の間の財政格差をおさえるために国から配分される財源が入る。空欄(①)に当てはまる語句を答えよ。



(3) 右の通知書はある制度の通知書の例である。ある制度とは何か答えよ。

(4) 企業と経済活動について述べたア～エの文章のうち、誤っているものを1つ選び、記号で答えよ。

- ア 企業の生産活動の最大の目的は利潤の獲得である。
- イ 企業の活動はときに画期的な技術革新を生み出す。
- ウ 国や地方公共団体が資金を出して運営する企業を公企業という。
- エ 日本の企業の事業所数は大企業がそのうちの約3割を占めている。

通知書

次の契約を解除することを通知します。

契約年月日 平成〇年〇月〇日

商品名 ○○○○○○

販売会社 株式会社○○ ○○営業所

担当者 ○○○○

クレジットカード会社△△△株式会社
支払った代金○○円を返金し、商品を
引き取ってください。

平成〇年〇月〇日
○○○○

7 内閣・国会・裁判所に関する以下の問いに答えよ。

問(1) 1つの事件につき，3回まで裁判を受けられることを何というか答えよ。

(2) 行政の運営について決定する内閣の会議を何というか答えよ。

(3) ある地域で選挙がおこなわれ，次の表のような投票結果となった。各候補者の得票数をその候補者が所属する政党の得票数と考え，各政党から出された名簿の順位をもとに，日本の比例代表制の方式である「ドント式」で12人の候補者の中から3人を選ぶとすると，次のア～エのうちどの結果になるか。1つ選び記号で答えよ。ただし，各候補者は，比例代表区でのみの立候補であるものとする。

政党名	名簿の順位				得票数
	1位	2位	3位	4位	
ばら党	Aさん	Bさん	Cさん	Dさん	350票
ゆり党	Eさん	Fさん	Gさん		200票
きく党	Hさん	Iさん			100票
すみれ党	Jさん	Kさん	Lさん		70票

ア ばら党から3人当選する。

イ ばら党から2人，ゆり党から1人当選する。

ウ ばら党から1人，ゆり党から1人，きく党から1人当選する。

エ ばら党から1人，ゆり党から1人，すみれ党から1人当選する。

(4) 公職選挙法などの一部改正により，2014年に行われた第47回衆議院議員選挙では衆議院議員の小選挙区選出議員の定数が5人削減された※。次の表を参考にし，下の語句をすべて使用して，40字以内でその理由を説明せよ。

語句 一票の格差 有権者数 議員一人当たり

※福井県の小選挙区は2012年12月選挙時の3つの選挙区から2014年12月選挙時に2つの選挙区に削減された。

	有権者数	
	2012年12月16日 (第46回衆議院議員選挙)	2014年12月14日 (第47回衆議院議員選挙)
東京1区	477,631人	492,025人
福井1区	220,972人	378,855人

(福井県，東京都選挙管理委員会事務局HPより作成)

