

令和2年度
入学試験問題

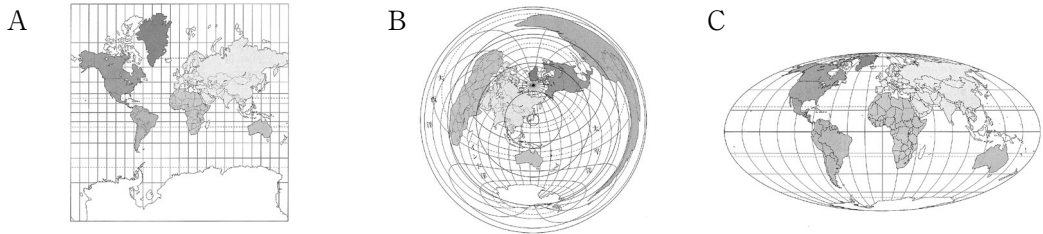
社 会

2月3日 第1限

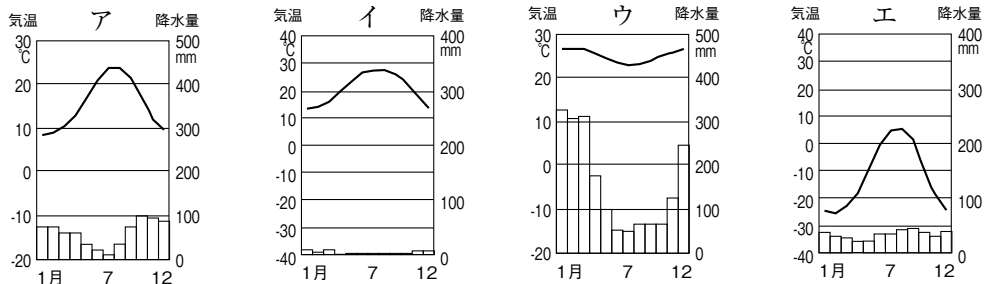
仁愛女子高等学校

1 世界の地理について、以下の問いに答えよ。

問(1) 次の地図A～Cに関して、以下の問いに答えよ。



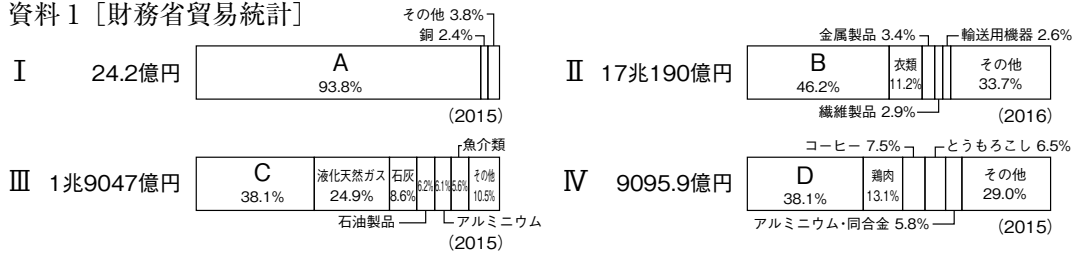
- ① 地図上のある地点が、日本から見てどの方位かを正確に知るために使うのに最も適している地図はどれか。最も適当なものをA～Cから1つ選び、その記号を書け。
- ② ホエール（クジラ）ウォッチングをしたいので、オーストラリアに行くことにした。Aの地図を見て考えたことについて、誤っているものをア～エから2つ選び、その記号を書け。
- ア オーストラリアに行く時には、日本とは反対の季節の衣服を準備しなくてはならない。
- イ 定規で測ったところ、東京からシドニーへの距離よりも、東京からモスクワへの距離が長いことが分かった。
- ウ オーストラリアと日本の時差は1時間ぐらいなので、時差による体調の変化の心配はあまりしなくてもよい。
- エ 北極海でもクジラが見られるということで、地図上でグリーンランドを探すとオーストラリアよりも面積が大きいことが分かった。
- ③ ラクダに乗りたい場合は、どのような地域に行くときよいか。ラクダの生息している地域の雨温図として最も適当なものをア～エから1つ選び、その記号で書け。



- (2) 資料1のI～IVは、それぞれロシア、ブラジル、コートジボワール、中国のいずれかの国の日本への輸出品目の割合を示したものである。A～Dに適する品目の組み合わせとして最も適当なものをア～カから1つ選び、その記号を書け。

- | | | | | |
|---|--------|--------|--------|--------|
| ア | A 原油 | B 機械類 | C カカオ豆 | D 鉄鉱石 |
| イ | A 原油 | B カカオ豆 | C 機械類 | D 鉄鉱石 |
| ウ | A 機械類 | B 原油 | C 鉄鉱石 | D カカオ豆 |
| エ | A 機械類 | B 鉄鉱石 | C カカオ豆 | D 原油 |
| オ | A カカオ豆 | B 機械類 | C 原油 | D 鉄鉱石 |
| カ | A カカオ豆 | B 鉄鉱石 | C 原油 | D 機械類 |

資料1 [財務省貿易統計]



- (3) 次の文は、アメリカ合衆国における移民について説明したものである。 に適する語を書け。

アメリカ合衆国は、18世紀後半、ヨーロッパからの移民を中心に独立したが、近年では、メキシコをはじめとする中南米諸国からの と呼ばれる移民や、アジアからの移民が多くなっている。

- (4) 東南アジアについて述べた文として最も適当なものを次のア～エから1つ選び、その記号を書け。
- ア 東南アジアは季節風の影響を受けて降水量が多いため、米の二毛作ができる。
 - イ 植民地時代に造られたプランテーションの多くは、現在では現地の人々の経営する農園になっている。
 - ウ APECを結成し、アメリカや日本などの企業を受け入れて工業化を進めた。
 - エ 東南アジアの農村人口は、1960年代以降、都市人口よりも急激に増加した。

- (5) 次の文章は、ある国について説明したものである。国名を答えよ。

この国の気候は、近くを流れる暖流の北大西洋海流と、偏西風の影響を受けている。国土の大部分は平地で、農業が盛んである。穀物の自給率は100%をこえている。また、スイスやイタリアとの国境近くのアルプス山脈周辺では酪農もこなわれている。ラテン系の言語を使用し、カトリックを信仰する人が多い。一方で、1960年代以降は、ドイツやスペインと同じように、アフリカなどから労働力として移住する人々が増加しており、イスラム教を信仰する人々も増えている。

2 日本の地理について、以下の問いに答えよ。

- 問(1) 次の文章を読んで、以下の問いに答えよ。

国土地理院は15日、新しく「自然災害伝承碑」の地図記号をつくり、掲載することを決めた。新しいA地図記号ができるのは、2006年の「風車」と「老人ホーム」以来13年ぶり。6月からウェブ版、9月からは紙の地図に反映される見通し。

過去に起きたB津波、洪水、火山災害、土砂災害などの自然災害の情報を伝える石碑やモニュメントを表す記号。これまで一部は「記念碑」に含まれていたが、多くは未掲載だった。

昨年7月の西日本豪雨で被災した広島県坂町にも100年以上前の水害の石碑があったが、地図に載っておらず、十分に防災意識が伝わっていなかった。こうした反省をふまえ、地図記号をつくることにしたという。

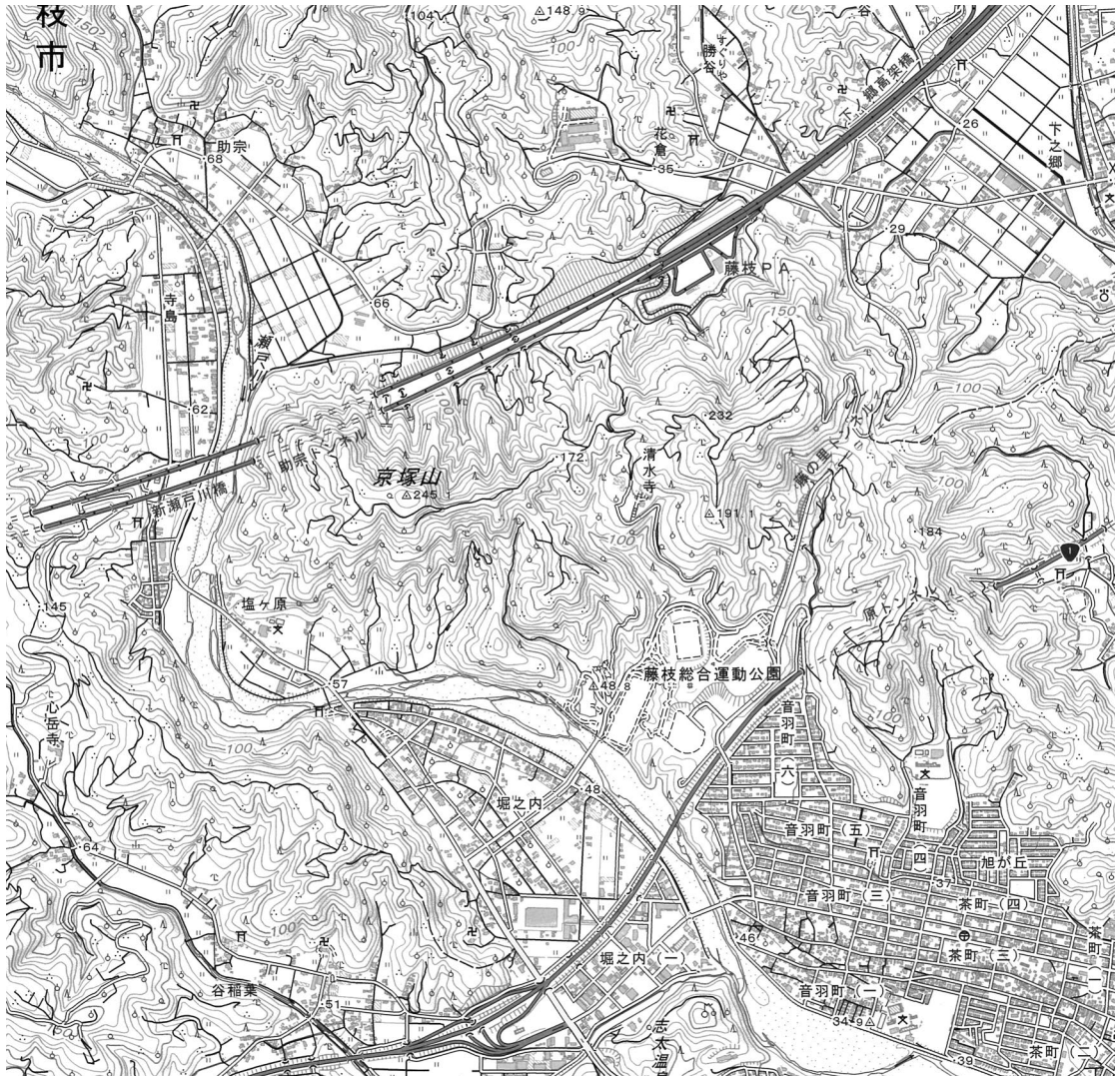
6月には、西日本豪雨の被災地で石碑など約20カ所を載せることが決まっており、東日本大震災などの被災地も順次加える予定。C地形図へ反映させるには、市区町村が郷土史などの裏付け資料や写真とともに地理院に申請する必要がある。

(朝日新聞2019年3月16日)

① 下線の部分Aに関連して、資料1から読み取れないものを次のア～エから1つ選び、その記号を書け。

- ア 山間部は果樹園として利用されている。 イ これは2万5000分の1の地形図である。
ウ この地形には扇状地がみられる。 エ 南西には住宅地が広がっている。

資料1

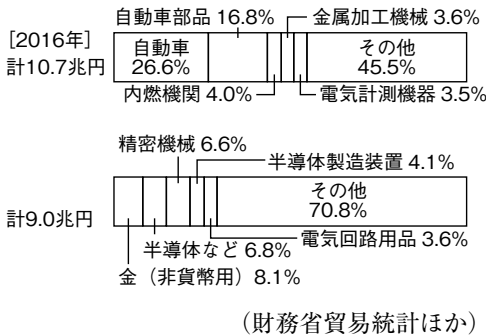


② 下線の部分Bについて、自然災害について説明した文として誤っているものをア～エから2つ選び、その記号を書け。

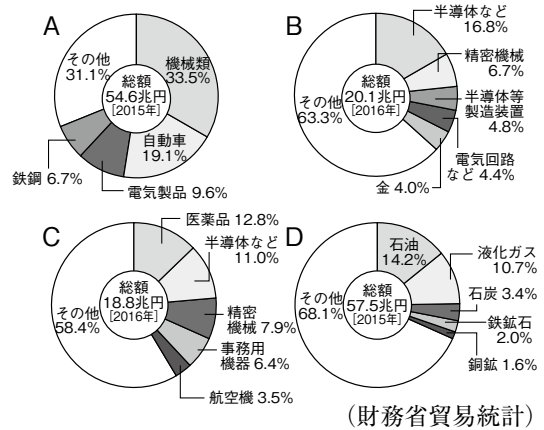
- ア 日本は環太平洋造山帯の中にあるため、地震や火山活動による被害を受けやすい。
イ 台風は夏から秋にかけて赤道の南側で発生し、日本列島に豪雨や強風、高潮などの被害をもたらす。
ウ 北海道は梅雨がないうえに降水量が少ない。大規模な農業生産を行い、農家一戸あたりの耕地面積も広いため、干害が起りやすい。
エ 災害救助法は、国が自治体などの協力の下で自然災害による被災者を保護するための法律である。

- ③ 下線の部分Cに関連して、自然災害による被害をできるだけ小さくおさえることを目的として、市町村が作成している地図を何というか書け。
- (2) 資料2はそれぞれ名古屋港または成田国際空港の輸出額の内訳を示している。資料3のA～Dはそれぞれ日本の海上輸送貨物または航空輸送貨物の輸出入額の内訳を示している。名古屋港と成田国際空港の輸出額が含まれる組み合わせとして最も適当なものをア～エから1つ選び、その記号を書け。
- ア A - 名古屋港 B - 成田国際空港 イ A - 成田国際空港 D - 名古屋港
ウ B - 名古屋港 C - 成田国際空港 エ B - 成田国際空港 D - 名古屋港

資料2



資料3



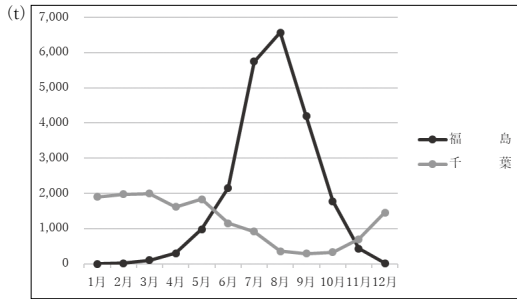
- (3) 次の文章は、中国・四国地方における交通網について説明したものである。[X]、[Y] に適する語を書け。

中国・四国地方では、東西に中国自動車道が開通し、南北に三つの [X] が建設された。このように交通網が整備された結果、ストロー現象が起きている。交通の発達は、中心都市と地方都市、都市と農村の [Y] を縮める一方で、地方や農村の消費が落ち込み、経済が衰退することもある。

(4) 資料4は千葉県と福島県の関東地方へのきゅうりの年間出荷量を，資料5は関東地方のきゅうりの卸売価格を示している。千葉県で行われている農業の特徴について，40字以内で説明せよ。ただし，次の語句を必ず使うこと。

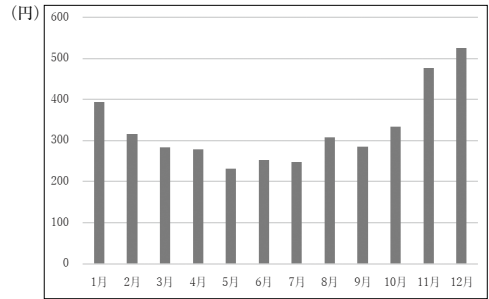
価格 出荷時期 施設園芸農業

資料4



(2017年度 農林水産省 HP より作成)

資料5

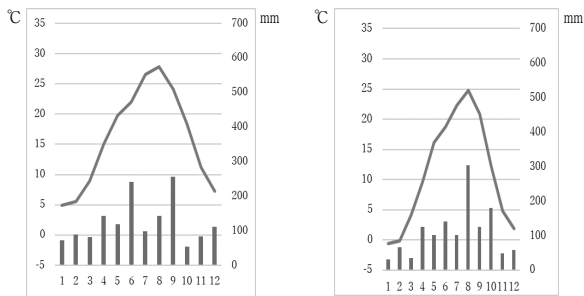


(2017年度 農林水産省 HP より作成)

(5) 資料6は，資料7の①，②の都市のいずれかの雨温図である。それぞれの都市の雨温図として最も適当なものをア～エから選び，その記号を書け。

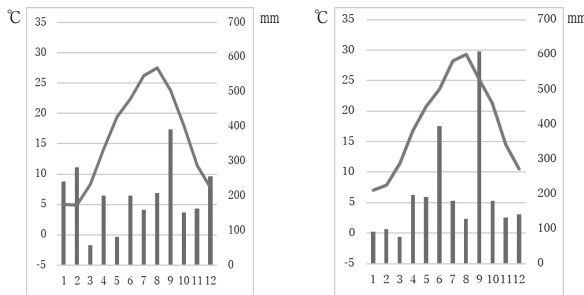
資料6 (2017年度 気象庁HPより作成)

資料7



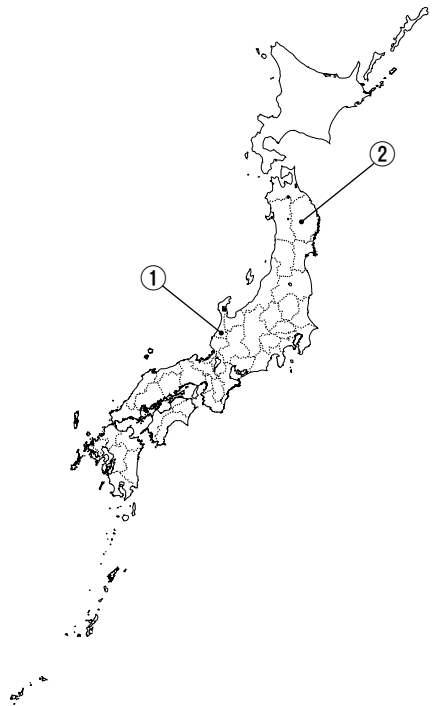
ア

イ



ウ

エ



- (6) 資料8のA～Cは、それぞれ福井県、石川県、富山県の特産品に関連している。このように特産品を生産する、特定の地域に集まっていてその地域と密接に結びついた産業を何というか書け。


資料8



A



B



C

3 次のそれぞれの時代に関する文章や資料を参考にして、以下の問いに答えよ。

縄文時代

日本列島の人々は、1万2000年ほど前からどんぐりなどの木の実を煮て食べるために土器を作り始めた。縄文土器は、厚手で、低温で焼かれたため黒褐色をしている。表面に縄目のような文様が付けられていることが多いので、縄文土器と呼ばれた。

資料1



資料2



問(1) 上の文章の下線の部分や資料1，資料2を参考にして、弥生土器の特徴を30字以内で説明せよ。

(2) 縄文時代に魔よけや食べ物の豊かさをいのるために使われたとされるものを1つ選び、記号で答えよ。



ア



イ



ウ



エ

飛鳥時代

資料3

一に曰く、和をもって貴しとなし、さからう（争う）ことなきを宗と（第一に）せよ。
二に曰く、あつく三宝を敬え。三宝とは仏・法（仏教の教え）・僧なり。
三に曰く、詔（天皇の命令）をうけたまわりては必ずつつしめ（守りなさい）。
(初めの3条の一部)

(3) 資料3は、聖徳太子が定めた「十七条の憲法」を要約したものの一部である。このなかには、釈迦の教えや孔子の考え方が取り入れられている。この孔子の思想を何というか答えよ。

- (4) 聖徳太子に関連して述べた文として、誤っているものを1つ選び、記号で答えよ。
- ア かんむりの色などで地位を区別し、家柄にとらわれず、才能や功績のある人物を取り立てようとした。
- イ 隋の進んだ制度や文化を取り入れようと、小野妹子を遣隋使として派遣した。
- ウ 朝鮮半島では、百済や新羅が勢力を強めていたため、大和政権と密接に交流があった伽耶に援軍を送り戦った。
- エ 聖徳太子は仏教を広めようとして、法隆寺などの寺院の建設に力を注いだ。

奈良時代

資料4

から衣ころも すそに取りつき 泣く子らを 置ききてぞ来ぬや 母おもなしにして
 (すそに取りついて泣く子どもたちを置いたまま来てしまった。その子の母もいないのに。)

- (5) 資料4の歌は、この時代につくられた『万葉集』におさめられた歌で、作者は九州北部を守る兵役についた人である。この兵役を何というか答えよ。
- (6) 下の資料5の東大寺の大仏に関して、①この大仏を造らせた天皇、②この大仏が造られた目的の正しい組み合わせをア～エから1つ選び、記号で答えよ。
- ① A 桓武天皇 B 聖武天皇
- ② A 念仏を唱えて阿弥陀如来にすがり、死後に極楽浄土に生まれ変わることを願うため。
- B 仏教の力で、伝染病や災害などの不安から国家を守ろうとしたため。
- ア ①A ②A イ ①A ②B
- ウ ①B ②A エ ①B ②B

資料5



平安時代

資料6

今日は威子^{いし}を皇后に立てる日である。…太閤^{たいこう}が私を呼んでこう言った。「和歌をよもうと思う。ほこらしげな歌であるが、あらかじめ準備していたものではない。」
この世をば わが世とぞ思う 望月^{もちづき}の欠けたることも 無しと思えば
(部分要約) (小右記^{しょうゆうき})

- (7) 資料6は『小右記』の一節である。「太閤」である彼は、四人の娘を天皇のきさきにすることで権力をにぎった。この「太閤」とは誰か答えよ。
- (8) この時代の文化を国風文化という。この国風文化に関連する語句として誤っているものをア～エから1つ選び、記号で答えよ。
- ア 徒然草 イ 古今和歌集 ウ 源氏物語 エ 平等院鳳凰堂

鎌倉時代

資料7

…高麗^{こうらい}は私の東方^{とうほう}の属国^{ぞっこく}である。日本は高麗^{こうらい}に近く、ときどき中国^{ちゆうごく}に使いを送ってきたが、私の時代になってからは一人の使いもよこさない。…今後はたがいに訪問し友好を結ぼうではないか。…武力を使いたくはないのでよく考えてほしい。
(部分要約)

- (9) 資料7は、中国の元から日本の鎌倉幕府に出された国書である。この国書の差出人である元の皇帝を答えよ。
- (10) この国書を受け取った執権は、これを無視したため、二度にわたる襲撃（元寇）を受けた。この時の執権の名をア～エから1つ選び、記号で答えよ。
- ア 北条泰時 イ 北条時宗 ウ 北条時政 エ 北条義時

室町時代

資料8

一 寄合^{よりあい}があることを知らせて、二度出席しなかった者は五十文のぼつをあたえる。
一 森林の苗木^{なえき}を切った者は五百文のぼつをあたえる。
一 若木の葉をとったり、くわの木を切ったりした者は百文のぼつをあたえる。
(部分要約) (今堀日吉神社文書)

(11) 資料8は、農業用水路の建設や管理、森林の利用や管理などについて、まとめられた「村のおきて」である。農村で有力な農民を中心に村ごとにまとまったこの時代の自治組織を何というか答えよ。

(12) この時代の文化に関連して述べた文として誤っているものを1つ選び、記号で答えよ。

ア 足利義政が京都の東山の別荘に建てた銀閣に特色が表れていることから東山文化とよばれている。

イ 足利義満が京都の北山の別荘に建てた金閣には、貴族の文化と武士の文化を合わせた特色が表れている。

ウ 京都の龍安寺の石庭のような、石や木をたくみに配置した庭園がつくられた。これに力を発揮したのは、河原者と呼ばれる人々であった。

エ 絵画では、宋や元で盛んであった墨一色で自然などを表現する水墨画が、観阿弥・世阿弥によって描かれた。

安土桃山時代

資料9



(13) 資料9は、織田信長が鉄砲を有効に使った戦法で、武田勝頼を破った戦いを描いたものである。この戦いを何というか答えよ。

(14) 資料9に見られるように、日本の武士の戦法を大きく変化させた鉄砲を日本へ最初に伝えた国はどこか。ア～エから1つ選び、記号で答えよ。

ア イギリス イ オランダ ウ ポルトガル エ スペイン

5 公民の分野に関する以下の問いに答えよ。

問(1) 日本における女性の社会参加の歴史や現在の状況の説明として、誤っているものをア～エから1つ選び、記号で答えよ。

- ア 女性参政権は、第二次世界大戦後に認められた。
- イ 女子差別撤廃条約を批准するため、男女雇用機会均等法が制定された。
- ウ 男女雇用機会均等法の制定に先立ち、男女共同参画社会基本法が制定された。
- エ 育児休業の取得は、男性・女性いずれにも認められている。

(2) 国の政治権力から人権を守り、保障していくために、憲法によって政治権力を制限しようとする考えを何というか答えよ。

(3) 天皇は、国の政治についての権限を持たず、日本国憲法に定められている□□の
みを行う。この□□に入る適切な語句を答えよ。

(4) 2019年現在で憲法を改正する手続きについて、次の文の□a□～□c□に入る適切な
語句の正しい組み合わせを、ア～カから1つ選び、記号で答えよ。

まず憲法改正案が衆議院と参議院それぞれの総議員の□a□以上の賛成を得て国民
に発議され、その後その改正案について、満□b□歳以上の国民による投票が行われ
有効投票の□c□の賛成を得ると改正される。

- ア a - 過半数 b - 18 c - 過半数
- イ a - 過半数 b - 18 c - 3分の2
- ウ a - 3分の2 b - 18 c - 過半数
- エ a - 過半数 b - 20 c - 過半数
- オ a - 過半数 b - 20 c - 3分の2
- カ a - 3分の2 b - 20 c - 過半数

(5) 次のXとYは、衆議院議員選挙(衆院選)と参議院議員選挙(参院選)の仕組みに
ついて述べた文である。それぞれの文が正しいか誤りかの組み合わせとして最も適当
なものを、ア～エから1つ選び、記号で答えよ。

X 衆院選は、小選挙区制と、全国を一つの単位とした比例代表制とを組み合わせた
制度が採られている。
Y 参院選は、都道府県を単位とした選挙区制と、全国を11のブロックに分けて行う
比例代表制とを組み合わせた制度が採られている。

- ア XもYも正しい。
- イ Xは正しい。Yは誤り。
- ウ Xは誤り。Yは正しい。
- エ XもYも誤り。

江戸時代

資料10

一 人を殺し盗んだ者	引き回しの上獄門 ^{ごくもん}	
一 追いはぎをした者	獄門	
一 ぬすみをはたらいた者		
金十両以上か十両以上のもの	死罪	
金十両以下か十両以下のもの	入墨 ^{いれずみ} たたき	(部分要約)

- (15) 資料10は、徳川吉宗の行った改革の一つで、裁判の基準になる法律を定めたものである。これを何とよいか答えよ。
- (16) この時代に関連する文として適当なものをア～エから1つ選び、記号で答えよ。
- ア 徳川家光は、参勤交代の制度を定めた。そのために大名は3年おきに領地と江戸を往復することとなった。
- イ 新井白石は、儒学を学ぶことをすすめ、人々に慈悲の心を持たせるため、極端な動物愛護政策である生類憐みの令を出した。
- ウ 老中松平定信は、凶作やききんに備えるため、各地に倉を設けて米を蓄えさせた。また、江戸湯島に昌平坂学問所を創り、朱子学以外の学問を教えることを禁止した。
- エ 老中水野忠邦は、幕府の力を回復させるため、儉約令を出し、町人の派手な風俗を取りしまった。また、経済を安定させるために株仲間を奨励した。

明治時代

資料11


第1条	大日本帝国ハ万世 ^{ばんせい} 一系ノ天皇 ^{これ} 之ヲ統治ス
第3条	天皇ハ神聖ニシテ侵スベカラズ
第4条	天皇ハ国ノ元首ニシテ統治権ヲ総攬 ^{そうらん} シ此ノ憲法ノ条規ニ依 ^よ リ之ヲ行ウ
第20条	日本臣民ハ法律ノ定ムル所ニ従 ^{へい} イ兵役ノ義務ヲ有ス

- (17) 資料11は大日本帝国憲法の一部である。大日本帝国憲法は天皇が定めて国民にあてるといふ形の憲法であった。このような形の憲法を何とよいか答えよ。

- (18) 資料12は第1回衆議院議員選挙の投票所の風景である。この選挙では選挙権をあたえられた有権者は、総人口の1.1%に過ぎなかった。選挙権をあたえられた人々をア～エから1つ選び、記号で答えよ。

- ア 直接国税10円以上を納める満20歳以上の男女
- イ 直接国税10円以上を納める満25歳以上の男女
- ウ 直接国税15円以上を納める満20歳以上の男子
- エ 直接国税15円以上を納める満25歳以上の男子

資料12



昭和時代

- (19) 資料13は日本が柳条湖事件をきっかけに、ある国際機関から脱退したことを伝える記事である。この国際機関とは何か答えよ。

資料13




- (20) 1933年からアメリカでは、農業や工業の生産を調整し、積極的に公共事業をおこして失業者を助け、労働組合を保護するニューディール政策がはじまった。この時の大統領をア～エから1つ選び、記号で答えよ。

- ア リンカーン
- イ ワシントン
- ウ ウィルソン
- エ ルーズベルト

4 次のそれぞれの時代に関する資料，年表を参考にして，以下の問いに答えよ。

問(1) 右の資料1は，紀元前3世紀に中国を統一した秦の始皇帝の墓のそばにあった兵馬俑である。始皇帝についての説明として，誤っているものをア～エから1つ選び，記号で答えよ。

資料1



- ア 長さや重さ，容積の基準を統一した。
- イ 朝鮮半島に楽浪郡を設け，中央アジアも支配下に入れて大帝国を築いた。
- ウ 遊牧民の侵入を防ぐために万里の長城を築いた。
- エ 文字や貨幣を統一した。

(2) 資料2の年表の(A)～(C)にあてはまる人物の正しい組み合わせを次のア～エから1つ選び，記号で答えよ。

資料2

年	できごと
1492	(A)が大西洋を横断してカリブ海の島に到達した。
1498	(B)がアフリカ南端の喜望峰をぬけてインドに到達した。
1519～1522	(C)船隊は初めて世界一周に成功した。

- ア A マゼラン B コロンブス C バスコ・ダ・ガマ
- イ A コロンブス B バスコ・ダ・ガマ C マゼラン
- ウ A バスコ・ダ・ガマ B マゼラン C コロンブス
- エ A コロンブス B マゼラン C バスコ・ダ・ガマ

- (3) 資料3の年表の(A)～(C)にあてはまる国の組み合わせをア～エから1つ選び、記号で答えよ。

資料3

年	できごと
1642	(A)でピューリタン革命がおこる
1688	(A)で名誉革命がおこる
1775	(B)で独立戦争がおこる
1789	ワシントンが(B)の大統領に就任する
々	(C)で人権宣言が発表される
1804	ナポレオンが(C)皇帝に就任する

- ア A フランス B アメリカ C イギリス
 イ A フランス B イギリス C アメリカ
 ウ A アメリカ B イギリス C フランス
 エ A イギリス B アメリカ C フランス

- (4) 資料4は国連平和維持活動に参加する自衛隊の写真である。

自衛隊はGHQ（連合軍最高司令官総司令部）の指令で1950年に警察予備隊が作られ、それが次第に強化されて、発足したのが自衛隊である。

自衛隊の前身である警察予備隊をつくるきっかけとなった国際的な出来事をア～エから1つ選び、記号で答えよ。

資料4



- ア キューバ危機 イ 日米安全保障条約の締結
 ウ ベトナム戦争 エ 朝鮮戦争

(6) 次の文章を読んで、 a b に入る適切な語句を答えよ。

日本は防衛のためにアメリカと日米 a 条約を結んでいる。この条約は、他国が日本の領域を攻撃してきたときに、日本とアメリカが共同で対応することを約束している。そのため日本は、アメリカ軍が日本の領域内に駐留することを認めており、各地にアメリカ軍基地が設置されている。とくに b 県には、2017（平成29）年現在面積では約71%が集中している。

(7) 日本国憲法第25条第1項で定められている「健康で文化的な最低限度の生活を営む権利」を、何というか答えよ。

(8) 日本の政治について、正しい説明をア～エから1つ選び、記号で答えよ。

ア 衆議院の解散中、緊急の必要があるとき、内閣の求めによって参議院の緊急集会が開かれる。

イ 法案の議決が衆議院と参議院で異なった場合は、両院協議会を必ず開かなければならない。

ウ 内閣総理大臣は、国務大臣をすべて国会議員の中から選ばなければならない。

エ 裁判官は、心身の故障（病気やけが）と国会議員による弾劾裁判によって辞めさせられる場合を除いて、在任中の身分が保障されている。

(9) 裁判員制度の説明として、誤っているものをア～エから1つ選び、記号で答えよ。

ア 裁判員は満20歳以上の国民の中から、くじなどによって選ばれる。

イ 裁判員が参加する裁判は刑事裁判のみで、地方裁判所で行われる第一審のみである。

ウ 一つの事件の裁判を、原則として6人の裁判員と3人の裁判官がいっしょに担当する。

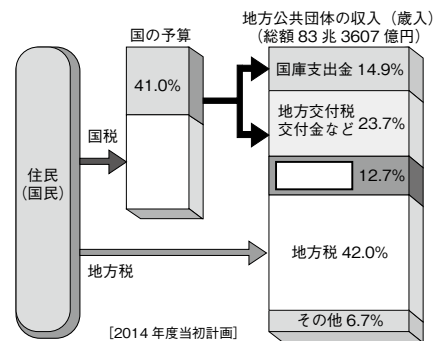
エ 裁判員が決めることは、被告人が有罪か無罪かのみで、有罪の場合の刑罰は裁判官が決める。

(10) 資料1は、地方財政の仕組みをあらわしたものである。図の中の に入る適切な語句を漢字3字で答えよ。

(11) 地方自治において、住民が地方公共団体の首長と地方議会議員という2種類の代表を選ぶことを何というか答えよ。

(12) 商品を購入する際、販売業者と交わした取り決めのトラブルから消費者を守るために、2000年に制定された法律を何というか答えよ。

資料1



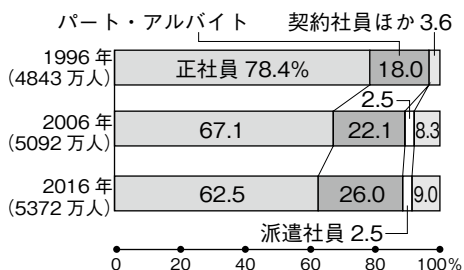
地方財政の仕組み(財務省資料)

(13) 次にあげたことなどを定めている法律は何か答えよ。

- ・労働者と使用者は対等
- ・男女同一賃金
- ・労働時間は週40時間，1日8時間以内
- ・労働者は少なくとも週1日の休日をとることができる

資料2

■雇用形態別労働者の割合の推移「労働力調査」



(14) 資料2は，労働者の雇用形態（雇われかた）別の割合の推移をあらわしたものである。資料にある「パート，アルバイト，契約社員，派遣社員」など，正社員以外の労働者を何というか答えよ。

(15) 「持続可能な社会」とは，どのような社会か。「現在」「将来」「幸福」の3つの語句を用いて，30字程度で説明せよ。

以上

受験番号

令和2年度 仁愛女子高等学校入学試験 社会解答用紙

1

問(1)	①	②		③	問(2)	
問(3)			問(4)			問(5)

2

問(1)	①	②		③	問(2)											
問(3)	X		Y													
問(4)																
問(5)	①		②		問(6)											

3

問(1)	弥生土器は																		
問(2)					問(3)					問(4)					問(5)				
問(6)					問(7)					問(8)					問(9)				
問(10)					問(11)					問(12)					問(13)				
問(14)					問(15)					問(16)					問(17)				
問(18)					問(19)					問(20)									

4

問(1)		問(2)		問(3)		問(4)	
------	--	------	--	------	--	------	--

5

問(1)		問(2)		問(3)		問(4)										
問(5)			問(6)	a		b		問(7)								
問(8)			問(9)			問(10)			問(11)							
問(12)			問(13)			問(14)										
問(15)																