

令和3年度  
入学試験問題

社 会

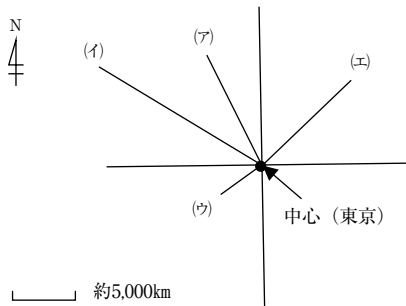
2月2日 第1限

仁愛女子高等学校

1 さとしくんとかうきくんは、アメリカ合衆国、イギリス、タイ、コートジボワールの4か国について、国や都市の特徴を調べている。各国について、あとの問いに答えよ。

問(1) 次の図①は、東京からアメリカ合衆国、イギリス、タイ、コートジボワールのそれぞれの首都までの距離と方位を(ア)~(エ)で表し、モデル化したものである。さとしくんとかうきくんの読み取りメモを見て、正しいことを述べている人物の名前を答えよ。

図①



**さとしくんの読み取りメモ**

東京から見て一番距離が遠いのは(イ)のコートジボワールの首都であり、一番距離が近いのは(ウ)のタイの首都である。

**かうきくんの読み取りメモ**

東京から見て北北東にある(ア)はイギリスの首都であり、アメリカの首都を表す(エ)と東京との距離は約10,000kmといえる。

(2) 次のさとしくんのメモ①は、アメリカ合衆国のある都市についてまとめたものである。その都市の名前を地図Aより選び、答えよ。

地図A

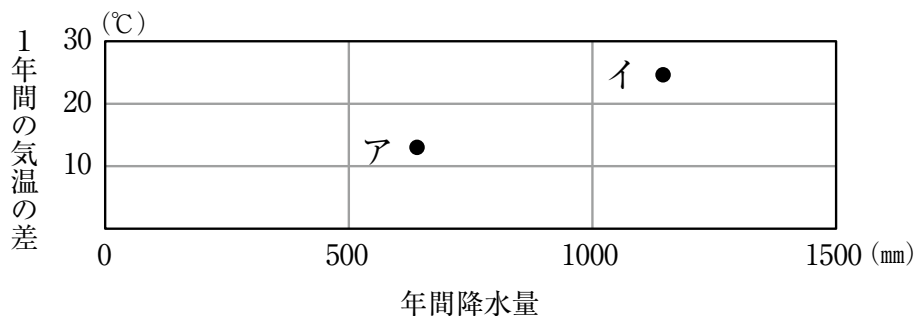


**さとしくんのメモ①**

ここは、20世紀半ばに製鉄業の中心地として栄えた。最近では情報技術産業などの新しい産業の発展がみられる。

(3) 次の図②は、イギリスのロンドンとアメリカ合衆国のニューヨークのそれぞれの年間降水量と1年間の気温の差を示した図である。ロンドンに該当するものをア、イより1つ選び、記号で答えよ。

図② 年間降水量と1年間の気温の差を示した図

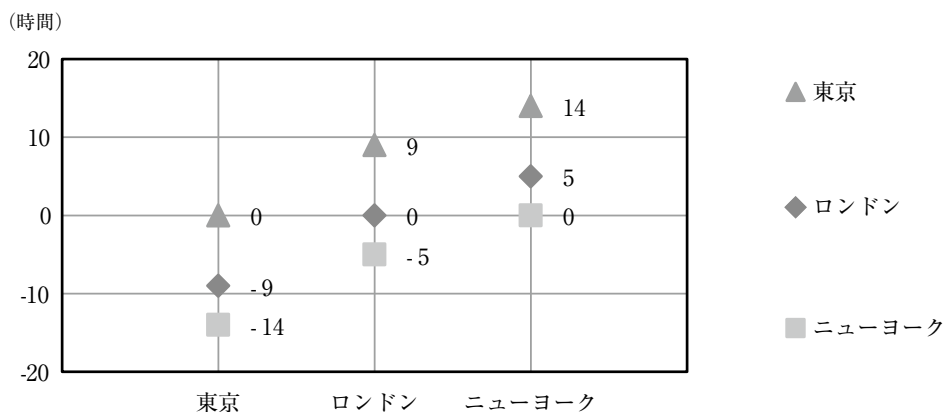


2020年データブックオブザワールドより作成。

- (4) 次の図③は、東京、ロンドン、ニューヨークの時差について作成したものである。こうきくんのメモと図③を参考にして、ニューヨークが2月2日16時の時、ロンドンでは何月何日何時になるか答えよ。

こうきくんのメモ  
一番左側の東京をたて軸でみた場合、東京から見てロンドンは9時間遅い。

図③ 時差について

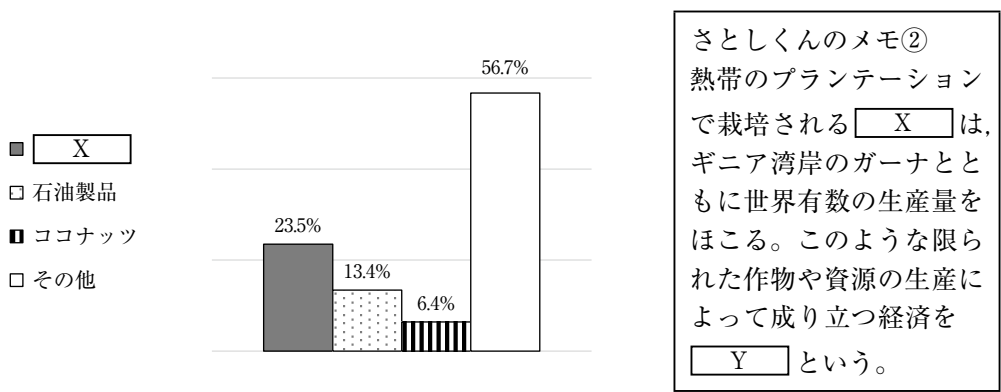


- (5) タイでは、アメリカや日本などの企業を受け入れて工業化を進めた。世界各地に支社や子会社を造り、国境をこえて活動している企業を何というか答えよ。

- (6) 次の表①は、コートジボワールの輸出品目の内訳である。さとしくんのメモ②の中の  にあてはまる輸出品目と、 に入る語句をそれぞれ答えよ。

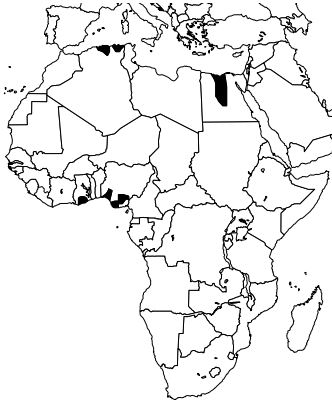
表① コートジボワールの輸出品目の内訳

【輸出額 計129.9億ドル 2014年】



- (7) 次の地図A～Cは、アフリカ地域の砂漠が分布する地域、アフリカの人口密度が200人/㎢以上と高い地域、1914年時点でイギリスの植民地であった地域のいずれかを表している。地図A～Cについて、述べた文章のうち、それぞれ正しいものをア、イより1つ選び、記号で答えよ。

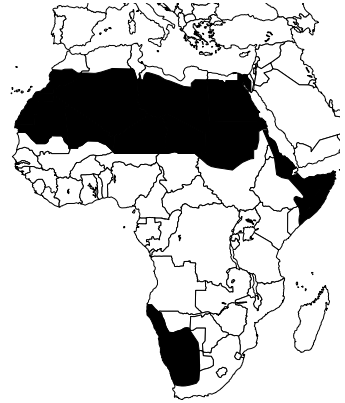
地図A



地図B



地図C



【地図Aについて】

- ア ナイル川やニジェール川の周辺が着色されており、河川の沿岸では水が得やすいため、人口密度が高い地域の図である。
- イ アマゾン川やミシシッピ川の周辺が着色されており、交通に便利な場所のためイギリスの植民地であった地域の図である。

【地図Bについて】

- ア 茶の栽培で有名なケニアや地中海と紅海を結ぶ交通の重要地点としてのエジプトが着色されているので、イギリスの植民地であった地域の図である。
- イ 赤道周辺の国が着色されているので、熱帯が広がっていることからたぐさんの主食となる農作物が栽培できるため、人口密度が高い地域の図である。

【地図Cについて】

- ア 油田が多く分布する地域が着色されているため、イギリスの植民地であった地域の図である。
- イ 世界で一番大きな面積をほこるサハラ砂漠や南回帰線沿いにあるカラハリ砂漠の周辺が着色されているため、砂漠の分布する地域の図である。

(8) 次の資料①～④をみて話をしているさとしくんとかうきくんの会話文を読み、  
 ( X ) にあてはまる文をア～エより1つ選び、( Y ) に適する語句をカタカナ  
 で答えよ。

資料① トウモロコシの生産

生産 (2017)	万トン	%
アメリカ	37,096	32.7
中国	25,907	22.8
ブラジル	9,772	8.6
その他	40,700	35.9
世界計	113,475	100

2020年データブックオブザワールドより作成。

資料② トウモロコシの輸出

輸出 (2016)	万トン	%
アメリカ	5,599	38.0
アルゼンチン	2,450	16.6
ブラジル	2,187	14.8
ウクライナ	1,101	7.5
フランス	544	3.7
その他	2,855	19.4
世界計	14,736	100

2020年データブックオブザワールドより作成。

資料③ アメリカのトウモロコシ

用途別消費量

(ブッシェル：体積の単位で1ブッシェルは約35.2ℓ)  
 (億ブッシェル)

用途別消費量	2000年	2017年
飼料	58	55
輸出	20	22
食料・工業	13	13
燃料	7	52

USDA,ERS Feed Grains Database より作成。

資料④ ( Y ) 製法の流れ



農林水産省ホームページより作成。

さとしくん「トウモロコシは、アメリカと中国で世界の約半分を生産しているよ。」

こうきくん「中でも ( X ) が輸出の上位国にはあがっていないところを見ると、自  
 国で消費しているんだろうな。」

さとしくん「国民の所得が増大し、国内でも食べ物や製品が売れるようになってい  
 ということかな。」

こうきくん「うん。アメリカでも燃料用の消費量が増えているし、トウモロコシなどか  
 らできる ( Y ) は今後も期待が高まるね。」

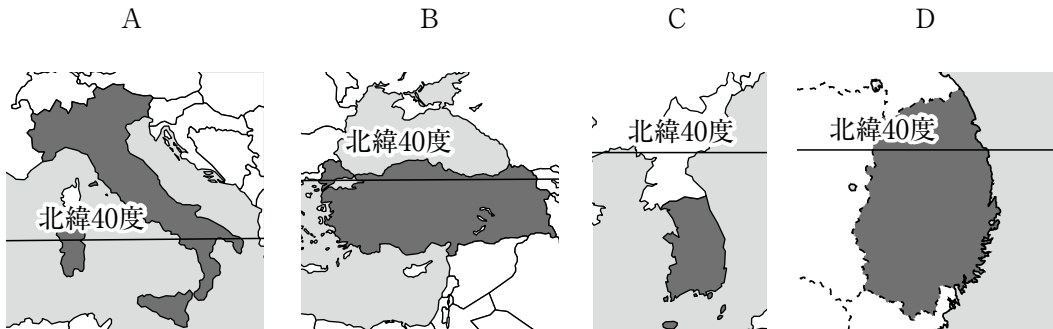
ア スラムが形成されたフランス

イ 工業団地が造られたフランス

ウ 一人っ子政策が継続中の中国

エ 経済特区が設けられた中国

2 同じ緯度でも景観・くらしは大きく変わる。北緯40度付近にある地図A～Dの着色された国・県について、あとの問いに答えよ。



問(1) 地図Aの国について、あとの問いに答えよ。

① 地図Aの国の中部には丘の上に造られた都市がたくさんある。丘の上につくられた理由として正しいものをア、イより1つ選び、記号で答えよ。

ア 年中吹く偏西風の影響で夏に降水量が多く、森林の伐採が進むことで地面に日が当たり、こおった地面が夏に溶けだしたことでできた湿地に大量の虫が発生し、それが原因で病気が広がるのを防ぐため。

イ 冬に降る大量の雨が、かたい岩でできた地面にあまりしみ込まずに低い土地が湿地になることで大量の虫が発生し、それが原因で病気が広がるのを防ぐため。

② 次の表①は、地図Aの国と中国、エジプト、チリの日本への輸出額と輸出品を表している。地図Aの国に該当するものをア～エより1つ選び、記号で答えよ。

表①

	日本への輸出額 (100 億円)	おもな輸出品 (2016 年)
ア	58.9	銅鉱、魚介類、木製品
イ	1701.9	機械類、衣類、金属製品
ウ	1.5	石油製品、液化天然ガス、機械類
エ	95.2	機械類、バッグ類、医薬品

世界人口年鑑より作成。

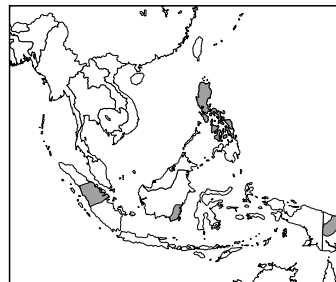
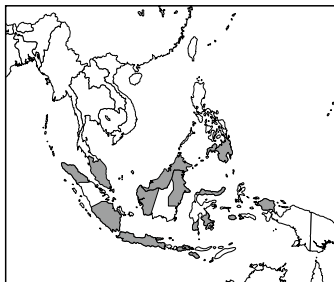
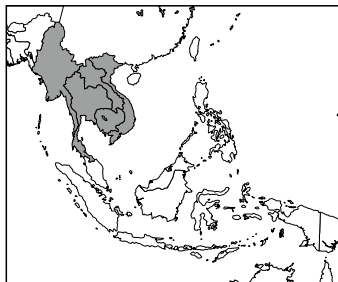
(2) 地図Bの国について、あとの問いに答えよ。

- ① 地図Bの国の人口のほとんどが、教典の「コーラン」に従って日常生活を送ることを義務とする宗教を信仰している。東南アジアにおける、この宗教の分布として正しいものを次のア～ウより1つ選び、記号で答えよ。

ア

イ

ウ



- ② 地図Bの国を含む西アジア，東南アジア，南アジアに関する次の文章のうち，西アジアに関する文章として正しいものをア～ウより1つ選び，記号で答えよ。

ア この地域の大部分の面積を占める国は，人口が約13億人で，出生率が高いため，2022年ごろに中国を抜いて人口が世界1位になると予測されている。

イ この地域は，ASEANを結成し，工業団地を造ったり，外国の企業が工場を造りやすくしたりする政策をとってきたため，急速に成長する都市も現れた。

ウ この地域の国々は，OPECなどを通して結びついており，ドバイのような近代都市が新たに建設されてきた。

(3) 地図Cの国について、あとの問いに答えよ。

- ① 地図Cの国と日本双方が領有を主張している島の名前を答えよ。

- ② 地図Cの国の文化として誤っているものをア～エより1つ選び，記号で答えよ。

ア 儒教（孔子の教えが生活に根づいている）

イ フェイジョアータ（豆と肉を煮込んだ料理）

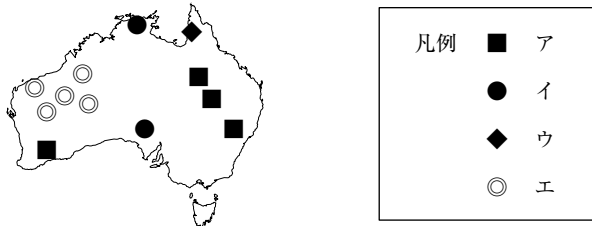
ウ オンドル（住居の床下を暖めるもの）

エ キムチ（白菜など野菜を発酵させた食品）

(4) 地図Dの県について、あとの問いに答えよ。

- ① この県の、伝統的工芸品である南部鉄器の原料の1つに鉄鉱石がある。  
 日本は鉄鉱石を主にオーストラリアから輸入しているが、その分布として正しいものを凡例のア～エより1つ選び、記号で答えよ。

【オーストラリアの石炭・ウラン・鉄鉱石・ボーキサイトの分布】



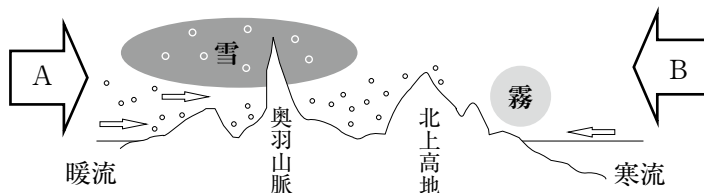
- ② 次の表②は、地図Dの県を含む東北地方の各県における米の作況指数【<sup>どつきょう</sup>平年作を100とした指数】を表している。米の作況指数が変化する原因となる風の名前と資料①より、その風向きとして正しいものの組み合わせをア～エより1つ選び、記号で答えよ。

表② 米の作況指数【平年作を100とした指数】

	2002年	2003年	2004年
青森県	98	53	101
地図Dの県	100	73	102
宮城県	103	69	108
秋田県	98	92	85
山形県	101	92	95
福島県	103	89	104

農林水産省 果樹生産出荷統計より作成。

資料① 1年間の東北地方の地形と風の様子



	ア	イ	ウ	エ
風の名前	やませ	偏西風	やませ	偏西風
風向き	A	B	B	A



3 次の日本の各地で撮影された写真について、あとの問いに答えよ。



写真①

群馬県におけるキャベツの収穫の様子



写真②

静岡県における機械を使った茶摘みの様子



写真③

被ばく電車と原爆ドームの様子

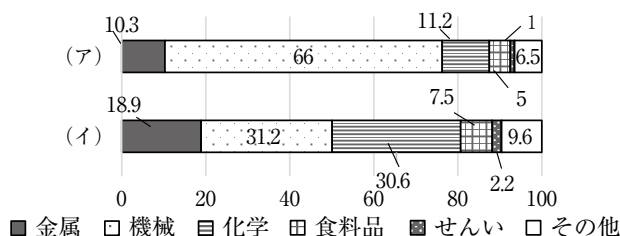
問(1) 写真①のような高原野菜は交通・輸送機関の発達によって、大都市から遠い地域でも生産されるようになった。このような農業を何というか答えよ。

(2) 写真②の静岡県はお茶の生産量が全国1位であるが、2位の鹿児島県と共通している栽培条件がある。次の ( X ), ( Y ) に適する語句の組み合わせとして正しいものをア～エより1つ選び、記号で答えよ。

栽培に適した ( X ) で ( Y ) 土地で茶の栽培をしている。

	ア	イ	ウ	エ
( X )	温暖	冷涼	温暖	冷涼
( Y )	水はけが良い	日当たりが良い	保水性が高い	日かげが多い

(3) 次のグラフ (ア) と (イ) は、写真③の県を含む瀬戸内工業地域と中京工業地帯の生産額と内訳を表している。瀬戸内工業地域のものを (ア), (イ) から1つ選び、またそう選択した理由を次の ( i ), ( ii ) の中の語句のどちらかを選んで答えよ。



選択した理由  
瀬戸内工業地域は、中京工業地帯より、機械の割合が ( i 高・低 ) く、化学の割合が ( ii 高・低 ) いから。

- 4 これまで日本において流行した病気に関するまとめの授業で、ゆきえさん、なつみさん、みなこさんはそれぞれコレラ、インフルエンザ、天然痘<sup>とう</sup>について次のような発表を行った。それぞれの発表を読み、あとの問いに答えよ。

ゆきえさんの発表

私はコレラの流行についてまとめました。日本における最初のコレラの流行は、日本がいわゆるA 鎖国と呼ばれる、幕府による禁教、貿易統制、外交独占の体制下のときに記録が残っています。その記録によると、流行は長崎から始まり、患者と死者数は十数万人にのぼったそうです。その後も長崎ではたびたびコレラが流行し、そこから関西、関東のB 大都市に広がっています。このことから私は、長崎でコレラが流行した原因として、長崎が  ことが挙げられると考えました。

なつみさんの発表

私はインフルエンザの流行についてまとめました。特にC 第一次世界大戦の終わりごろに世界中で流行したものを、当時の日本では「スペイン風邪」と呼びました。この「スペイン風邪」は、当時日本が領有していた  で大相撲の力士が感染したことを皮切りに、日本の本土でも感染が拡大していきます。しかし、死亡率が低く患者数も年々減少したことや、そのころ日本で  ことから、人々の関心は次第に低くなっていきました。

みなこさんの発表

私は天然痘の流行についてまとめました。日本における本格的な天然痘の流行は、D 聖武天皇の時代に、E 中国や朝鮮半島の国々に派遣した使者がウイルスを持ち帰ったことから広まったという説があります。この天然痘の大流行が政治に与えた影響はとても大きく、聖武天皇は、天然痘などの伝染病や災害などの不安から国家を守るため、。

問(1) 下線の部分Aについて、あとの問いに答えよ。

① 鎖国と呼ばれる体制に至るまでの出来事を3つ挙げた。この3つの出来事を時代の古い順に並び替えたとき、正しいものをア～カの中から1つ選び、記号で答えよ。

- I 鳥原・天草一揆が起きる。
- II 日本人の海外渡航・帰国を禁止。
- III 平戸のオランダ商館を出島に移す。

- |   |     |   |    |   |     |  |   |     |   |     |   |    |
|---|-----|---|----|---|-----|--|---|-----|---|-----|---|----|
| ア | I   | → | II | → | III |  | イ | I   | → | III | → | II |
| ウ | II  | → | I  | → | III |  | エ | II  | → | III | → | I  |
| オ | III | → | I  | → | II  |  | カ | III | → | II  | → | I  |

② 鎖国と呼ばれる体制下では、貿易によって金や銀が流出することを国の損失と考え、かわりに銅や俵物を輸出するようになった。このうち俵物の内容として、正しいものをア～エの中から1つ選び、記号で答えよ。

- ア あぶらな      イ こうぞ      ウ いりこ      エ 米

(2) 下線の部分Bについて、三都と呼ばれた都市のうち、全国の商業の中心地で「天下の台所」と呼ばれた都市を答えよ。

(3) ゆきえさんの発表について、あに当てはまる文章として、正しいものをア～エの中から1つ選び、記号で答えよ。

- ア 絵踏などを行うことにより、キリスト教の布教が認められていた
- イ 西廻り航路の寄港地として、国内各地から物資が運送されていた
- ウ 五街道の一つ、東海道の宿場町として、人の行き来が盛んであった
- エ 中国船やオランダ船が貿易を許された、海外との玄関口であった

(4) 下線の部分Cについて、あとの問いに答えよ。

① 日本は第一次世界大戦において、イギリス、フランス、ロシア側で参戦したが、この3か国の協力関係を指す語句を答えよ。

- ② 第一次世界大戦中のロシアにおいて、ロシア革命を指導した下の図の演説を行う人物はだれか答えよ。



- (5) なつみさんの発表について、には日本が日清戦争で領有した地名が入るが、  
① に当てはまる地名、②その地名を説明した文章の正しい組み合わせをア～エの中から1つ選び、記号で答えよ。

- ① A 韓国            B 台湾  
② C 総督府の技師であった八田與一は、<sup>はったよいち</sup>嘉南用水路を造り、<sup>かなん</sup>嘉南平野を最大の穀倉地に一変させた。  
D 1910年に総督府を設置し、初代総督には伊藤博文が就任した。

- ア ①A ②C            イ ①A ②D  
ウ ①B ②C            エ ①B ②D

- (6) なつみさんの発表について、に当てはまる出来事として、正しいものをア～エの中から1つ選び、記号で答えよ。

- ア 社会運動の広がりや慢性的な不況が発生した  
イ 大日本帝国憲法が発布された  
ウ 日露戦争が始まった  
エ 国家総動員法が制定された

- (7) 下線の部分Dについて、次の資料は、聖武天皇の時代に出された法令である。この法令を何というか答えよ。

資料

天平<sup>てんびょう</sup>15年5月27日 次のような詔<sup>みことり</sup>が出された。  
養老<sup>ようろう</sup>7年の規定では、墾田は期限が終われば、ほかの土地と同様に国に収められることになっている。しかし、このために農民は意欲を失い、せつかく土地を開墾しても、またあれてしまう。今後は私有することを認め、期限を設けることなく永久に国に収めなくてもよい。

(部分要約) (続日本紀<sup>しよくにほんぎ</sup>)

- (8) 下線の部分Eについて、あとの問いに答えよ。

① 奈良時代において、中国に派遣された使者を何というか答えよ。

② 日本と中国との関係について述べた文章として、誤っているものをア～エの中から1つ選び、記号で答えよ。

ア 邪馬台国の女王卑弥呼は、魏の都に使いを送り、皇帝から「漢委奴国王」という称号と金印を授けられた。

イ 足利義満は、正式な貿易船に明からあたえられた勘合という証明書を持たせ、朝貢の形の日明貿易（勘合貿易）を始めた。

ウ 1937年、北京郊外の盧溝橋付近で起こった日中両国軍の武力衝突（盧溝橋事件）をきっかけに、日中戦争が始まった。

エ 1972年の田中角栄内閣時に出された日中共同声明によって、国交が正常化された。

- (9) みなこさんの発表について、に当てはまる文章として、正しいものをア～エの中から1つ選び、記号で答えよ。

ア これまでの自然の神々を信じ、法隆寺などを建てた

イ 仏教の力にたより、国分寺や東大寺などを建てた

ウ 都を長岡京、次いで平安京へと移し、政治を立て直そうとした

エ 天台宗や真言宗の祈とうなどをたよるようになった

(10) ゆきえさん、なつみさん、みなこさんの発表の内容が示している出来事を古い順に並び替えたとき、正しいものをア～カの中から1つ選び、記号で答えよ。

ア ゆきえ → なつみ → みなこ

ウ なつみ → ゆきえ → みなこ

オ みなこ → ゆきえ → なつみ

イ ゆきえ → みなこ → なつみ

エ なつみ → みなこ → ゆきえ

カ みなこ → なつみ → ゆきえ

5 次の会話文を読み、あとの問いに答えよ。

あつし 最近、世界や日本で災害が多く発生している気がしますね。

先生 そうですね。日本は災害が多く、過去10年を振り返ってみると、2011年の東日本大震災や、2014年の御嶽山噴火<sup>おんたけさん</sup>など、多くの人が被災したのも少なくありません。このような災害について、日本では古来よりたくさんの記録が残されていて、大きく歴史を動かすこともあったみたいですよ。

あつし 私も聞いたことがあります。A 鎌倉時代にB 元が日本に攻めてきたとき、元軍は暴風雨にあつて大損害を受けたそうです。

先生 ほかに、長野県と群馬県の県境に位置する浅間山の大噴火は、C 平安時代やD 室町時代、そしてE 江戸時代に大凶作をもたらし、社会に大きな影響を与えていますね。

あつし なるほど。日本の歴史は災害の歴史といえるかもしれないですね。

問(1) 下線の部分Aについて、あとの問いに答えよ。

① 鎌倉幕府の執権北条泰時によって定められた、武士独自の法を何というか答えよ。

② 右の図は京都での踊念仏の様子を描いたものである。このような布教を行う仏教の宗派を答えよ。



(2) 下線の部分Bについて、モンゴル帝国のフビライに仕え、「世界の記述」(「東方見聞録」)を表した人物として、正しいものをア～エの中から1つ選び、記号で答えよ。

- |           |           |
|-----------|-----------|
| ア ザビエル    | イ コロンブス   |
| ウ マルコ・ポーロ | エ チンギス・ハン |

(3) 下線の部分Cについて、あとの問いに答えよ。

① 11世紀の後半の前九年合戦・後三年合戦ののち、東北地方で成長した奥州藤原氏が拠点とした地名を答えよ。

② 平安時代の終わりごろ、白河上皇の次に院政を行い、新しい荘園を認める強い力を持ったことから多くの荘園の寄進を受けた上皇はだれか答えよ。

(4) 下線の部分Dについて、このころに浄土真宗の信仰で結びついた武士や農民たちが加賀などで起こした一揆の名称を、漢字四字で答えよ。

(5) 下線の部分Eについて、あとの問いに答えよ。

① 老中水野忠邦が行った改革を答えよ。

② この頃の世界の動向について述べた文章として、誤っているものをア～エの中から1つ選び、記号で答えよ。

ア イギリスでピューリタン革命、次いで名誉革命が起きた。

イ 北アメリカのフランス植民地が発展し、1776年に独立宣言を発表した。

ウ フランスのパリで革命が始まり、国王が処刑された。

エ ロシアが東西に領土を拡大し、積極的な南下政策を採った。



## 6 公民の分野に関するあとの問いに答えよ。

問(1) 消費生活と経済に関する次の文のうち、誤っているものをア～エから1つ選び、記号で答えよ。

- ア 家計の支出のうち、衣食や娯楽、教育、医療など、生活に必要な財やサービスに対する支出を消費支出という。
- イ 1962年にはアメリカのケネディ大統領が「消費者の四つの権利」を初めて明確にかかげ、諸外国の消費者行政に大きな影響をあたえた。
- ウ 商品を売買するとき、消費者はその商品についての知識は十分に持っているが、売り手は持っていないということが問題となる。
- エ クレジットカードを利用すると、手元に現金が無くても商品を購入できるが、収入を考えずに商品を買いきこんでいると支払いに追われることになる。

(2) 地方自治に関する次の文のうち、正しいものをア～エから1つ選び、記号で答えよ。

- ア 義務教育や道路整備など、特定の費用の一部について国が負担しているものは地方交付税交付金とよばれる。
- イ 地方行政において、有権者の50分の1以上の署名を集め、地方議会に提出すれば首長の解職（リコール）請求を行うことができる。
- ウ 首長は議会の議決した条例や予算を拒否して審議のやり直しを求めたり、議会を解散したりすることができるのに対し、議会は首長の不信任決議を行うことができる。
- エ 過疎地域での町おこし・村おこしを積極的に推進していくために、オンブズパーソン制度を導入しているところもある。

(3) 司法や裁判に関する次の文のうち、正しいものをア～エから1つ選び、記号で答えよ。

- ア 司法制度改革によって、弁護士などの法律家の少ない地域をふくめ、だれもが司法に関するサービスを受けられるよう、日本司法支援センター（法テラス）が設立された。
- イ 刑事裁判においては、公正な判断を行うため、被害者が被告人や証人に質問をすることはできない。
- ウ 現行犯を除き、原則として警察が発行する令状が無ければ逮捕や捜索をすることができない。
- エ 裁判員が裁判に参加できるのは、重大な犯罪についての刑事事件を最高裁判所で行う場合のみである。

(4) 国際的な取り組みと日本に関する次の文のうち、正しいものをア～エから1つ選び、記号で答えよ。

- ア 男女雇用機会均等法制定後、日本でも女子差別撤廃条約を批准した。
- イ 日本政府は「国境なき医師団」などのNGOを組織し、国際的な人権保障を実現するために活動している。
- ウ 国際人権規約の内容を条約化したものが世界人権宣言である。
- エ 2007年に国連総会で「先住民族の権利に関する国連宣言」が採択され、日本も賛成した。

(5) 国会の主な仕事として、誤っているものをア～エから1つ選び、記号で答えよ。

- ア 条約の締結
- イ 憲法改正の発議
- ウ 国政調査権
- エ 弾劾裁判所の設置

(6) 国会において衆議院の優越が認められている。そのうち、法律案の議決に関する次の文の下線の部分X～Zの正誤を判断し、最も適当なものをア～オから1つ選び、記号で答えよ。

法律案の議決

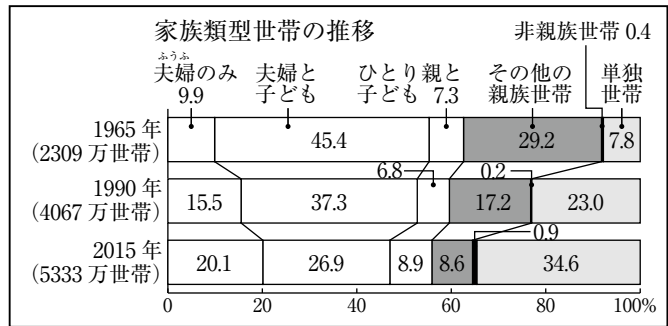
参議院が衆議院と異なった議決をするか、衆議院の可決した法律案を受け取った後、X 60日以内に議決しない場合、衆議院がY 出席議員のZ 3分の2以上で再可決したとき、法律となる。

- ア X - 正      Y - 正      Z - 正
- イ X - 正      Y - 誤      Z - 正
- ウ X - 誤      Y - 正      Z - 正
- エ X - 誤      Y - 正      Z - 誤
- オ X - 誤      Y - 誤      Z - 誤

(7) 次のうち、新しい人権に当てはまらないものをア～エから1つ選び、記号で答えよ。

- ア 環境権
- イ プライバシーの権利
- ウ 自己決定権
- エ 幸福追求権

- (8) 右の表は、家族類型世帯数の推移を表したものである。この表から読み取ることができる内容として正しいものをア～エから1つ選び、記号で答えよ。



- ア 全体に占める「夫婦のみ」世帯が年々増加していることから、日本において少子化がすすんでいることが分かる。
- イ 1965年から1990年にかけての「夫婦のみ」世帯の増加した数は、1965年から1990年にかけての「単独世帯」の増加した数よりも多い。
- ウ 2015年の全体に占める核家族世帯の割合は、2015年の全体に占める単独世帯の割合よりも高い。
- エ 全体に占める「ひとり親と子ども」世帯の割合は、1965年以降年々増加している。
- (9) 衆議院議員総選挙の選挙権・被選挙権に関する次の文の  ,  に当てはまる数字を答えよ。

現在、衆議院議員総選挙における選挙権は、日本国民の  歳以上、被選挙権は日本国民の  歳以上にある。

- (10) 大規模な開発事業を行う前に、環境への影響を調査することを何というか答えよ。
- (11) マスメディアから発信される情報を、さまざまな角度から批判的に読み取る力を何というか答えよ。
- (12) 同盟関係にある国が攻撃を受けたときに、自国は攻撃を受けていなくても、その国の防衛活動に参加する権利を何というか答えよ。
- (13) 一人の女性が一生の間に生む子どもの平均人数のことを何というか答えよ。

- (14) はるさんとあきさんが通う学校の3年1組では、清掃と昼休みの時間割について話し合いがなされた。時間割案（A案・B案）に対する2人の意見のうち、公正という観点から話をしているのは、はるさん、あきさんのどちらであると言えるか。名前を答えよ。

時間割 A案	
4時間目	11:40～12:30
昼食	12:30～12:50
清掃	12:50～13:05
昼休み	13:05～13:20
5時間目	13:20～14:10

時間割 B案	
4時間目	11:40～12:30
昼食	12:30～12:50
清掃が終わり 次第昼休み	12:50～13:20
5時間目	13:20～14:10

3年1組（30人）の清掃割り当て		
清掃場所	人数	平均清掃時間
教室	9人	12分
廊下	5人	10分
音楽室	8人	12分
図書室	8人	8分

#### はるさんの意見

掃除場所によって掃除にかかる時間に差があるし、A案のように清掃時間を固定すると、無駄な時間ができてしまう。B案にすれば、掃除が終わった人から昼休みにできるから、時間を無駄にしない。早く終われば昼休みが長くなるからみんな一生懸命清掃に取り組むようになるのではないかな。

#### あきさんの意見

掃除場所によって掃除にかかる時間に差があるし、B案にしたら、早く昼休みにしたいという自分勝手な理由から掃除をサボったり、誰かに仕事を押し付けて遊びに行ったりしてしまう人が増えてしまうのではないかな。

- (15) ノーマライゼーションとは、どのようなことをいうか。次の語句を必ず使い、解答用紙の言葉に合うように、30字程度で説明せよ。

語句

高齢者 障がい 社会

受験番号

令和3年度 仁愛女子高等学校入学試験 社会解答用紙

1

問(1)	くん	問(2)		問(3)		問(4)	
問(5)		問(6)	X	Y			
問(7)	地図A	地図B	地図C	問(8)	X	Y	

2

問(1)	①	②	問(2)	①	②
問(3)	①	②	問(4)	①	②

3

問(1)		問(2)		問(3)	記号	i	ii
						( ) <	( ) い

4

問(1)	①	②	問(2)		問(3)	
問(4)	①	②	問(5)		問(6)	
問(7)		問(8)	①	②		
問(9)		問(10)				

5

問(1)	①	②	問(2)	
問(3)	①	②	問(4)	
問(5)	①	②		

6

問(1)		問(2)		問(3)		問(4)	
問(5)		問(6)		問(7)		問(8)	
問(9)	a	b	問(10)		問(11)		
問(12)		問(13)		問(14)	さん		
問(15)							生活をおくること。